

全国经济专业技术资格考试辅导系列

经济师

《经济基础知识（中级）》

过关必做1200题（含历年真题）

## 目 录

专题一 经济学基础.....	4
一、单项选择题.....	4
二、多项选择题.....	34
专题二 财 政.....	55
一、单项选择题.....	55
二、多项选择题.....	87
专题三 货币与金融.....	111
一、单项选择题.....	111
二、多项选择题.....	133
专题四 统 计.....	150
一、单项选择题.....	150
二、多项选择题.....	169
专题五 会 计.....	180
一、单项选择题.....	180
二、多项选择题.....	203
专题六 法 律.....	219
一、单项选择题.....	219
二、多项选择题.....	241

## 专题一 经济学基础

### 一、单项选择题

(每题的备选项中, 只有 1 个最符合题意)

1. 从坐标图上看, 能够导致某种商品的需求曲线发生向右上方位移的因素是 ( )。[2018 年真题]

- A. 技术进步
- B. 需求交叉弹性发生变化
- C. 该商品价格提高
- D. 消费者收入增加

**【答案】** D

**【解析】** 假定价格不变, 由于消费者收入和消费者偏好等因素的变化引起需求的相应变化, 这种变化表现为需求曲线的位移。需求增加, 需求曲线向右上位移; 需求减少, 需求曲线向左下位移。消费者收入增加, 会使得需求增加, 需求曲线向右上方位移。

2. 影响供给的主要因素是 ( )。[2017 年真题]

- A. 消费者偏好
- B. 生产成本
- C. 消费者预期
- D. 消费者收入

**【答案】** B

**【解析】** 影响供给的因素包括: ①产品价格; ②生产成本; ③生产技术; ④预期; ⑤相关产品的价格; ⑥其他因素, 包括生产要素的价格以及国家政策等。B 项, 其他条件不变时, 生产成本降低, 利润增加, 则供给增加。ACD 三项是影响需求的因素。

3. 就生产者或销售者而言, 如果想通过降低其生产或销售的某种商品的价格来增加其总销售收入, 那么其生产或销售的该种商品的 ( )。[2017 年真题]

- A. 需求价格弹性系数应等于 1
- B. 需求收入弹性系数应等于 1
- C. 需求价格弹性系数应大于 1
- D. 需求交叉弹性系数应大于 1

**【答案】** C

**【解析】** 需求价格弹性和总销售收入的关系: 如果需求价格弹性系数小于 1, 即需求缺乏弹性的商品, 价格上升会使销售收入增加; 如果需求价格弹性系数大于 1, 那么价格上升会使销售收入减少; 如果需求价格弹性系数等于 1, 那么价格变动不会引起销售收入变动。这是企业实行薄利多销策略的一个主要理论基础。

4. 若甲产品和乙产品的需求交叉弹性系数为-2, 则表明 ( )。[2016、2015 年真题]

- A. 甲产品和乙产品都属于生活必需品
- B. 甲产品和乙产品是替代品
- C. 甲产品和乙产品都属于低档商品
- D. 甲产品和乙产品是互补品

**【答案】** D

**【解析】** 交叉弹性系数的计算公式为: 交叉弹性系数 = 商品 i 的需求量的相对变化 / 商品 j 的价格的相对变化。甲产品和乙产品的需求交叉弹性系数为负数说明甲产品的价格上涨, 需求量下降, 会引起乙产品的需求量下降, 所以甲产品和乙产品是互补品。

5. 政府为了保护农业生产者利益, 在必要时对某些农产品可以采取的价格干预措施是 ( )。[2016 年真题]

- A. 规定保护价格

- B. 调整均衡价格
- C. 规定最高限价
- D. 降低农业生产资料价格

【答案】A

【解析】保护价格，又称支持价格或最低限价，是指由政府规定一个具体的价格，市场交易只能在这一价格之上进行，其目的是保护生产者利益或支持某一产业的发展。在我国，保护价格属于政府对市场价格的干预措施。当某种或某些产品价格下降幅度过大，生产者收入过少，有可能影响生产的正常进行时，政府可以采取这种方式进行干预。我国和世界上一些国家或地区采用保护价格政策来支持农业生产和稳定农民收入水平。

6. 影响商品需求的最关键因素是（ ）。[2015 年真题]

- A. 产品价格
- B. 消费者收入
- C. 预期
- D. 消费者偏好

【答案】A

【解析】影响需求变动的主要因素有：①消费者偏好；②消费者的个人收入；③产品价格；④替代品的价格；⑤互补品的价格；⑥预期；⑦其他因素。其中，产品价格是影响需求的最关键的因素。一般而言，商品价格和需求的变动呈反方向变化。

7. 某月，因替代品价格上升，甲商品需求量变动 500 千克，同期互补品价格上升，导致甲商品的需求量变动 800 千克，那么，在相关产品价格变动的共同作用下，该月甲商品需求量的实际变动量是（ ）。[2014 年真题]

- A. 增加 300 千克
- B. 增加 1300 千克
- C. 减少 300 千克
- D. 减少 1300 千克

【答案】C

【解析】通常，商品的需求与替代品的价格呈同方向变化，与互补品的价格呈反方向变化。题中，替代品价格上升，甲商品的需求量增加 500 千克；互补品价格上升，甲商品的需求量减少 800 千克。最终，该月甲商品需求量的实际变动量 =  $500 - 800 = -300$ （千克）。

8. 导致某种商品供给曲线发生位移的因素是（ ）。[2014、2012 年真题]

- A. 该商品的成本
- B. 该商品的价格
- C. 该商品的税率
- D. 消费者偏好

【答案】A

【解析】由于价格以外的其他因素如成本等发生变动而引起的供给变动，称为供给的变动，表现为供给曲线的位移。BC 两项的变动会使得供给量发生变化，供给量的变化是沿着既定的供给曲线进行的（点移动）；D 项影响的是需求曲线的位移。

精准押题加QQ: 1419505160

9. 当某种生活必需品的市场价格上涨幅度过大时，为保障大多数消费者的基本生活稳定，政府采取最高限价进行干预，可能导致的结果是（ ）。[2013 年真题]

- A. 供给短缺
- B. 政府储备增加
- C. 供给过多
- D. 生产成本上升

【答案】A

【解析】最高限价，是指由政府为某种产品规定一个具体的价格，市场交易只能在这一价格之下进行。其目标是保护消费者利益或降低某些生产者的生产成本。由于最高限价低于均衡价格，因此，会刺激消费，限制生产，

导致供给减少和需求增加，结果就是市场供给短缺。

10. 以纵轴代表价格、横轴代表产量绘制某种农产品的需求曲线和供给曲线，假设其他条件不变，当生产成本上升时，在坐标图上就表现为这种农产品的（ ）。**[2013 年真题]**

- A. 需求曲线将向左移动
- B. 供给曲线将向左移动
- C. 需求曲线将向右移动
- D. 供给曲线将向右移动

**【答案】** B

**【解析】**如图 1-1 所示的均衡价格模型中，纵轴表示价格，横轴表示需求量和供给量。需求曲线 D 与供给曲线 S 相交于 E 点。在其他条件不变时，如果生产成本上升，利润下降，供给就会减少，供给曲线 S 向左移动到 S'。

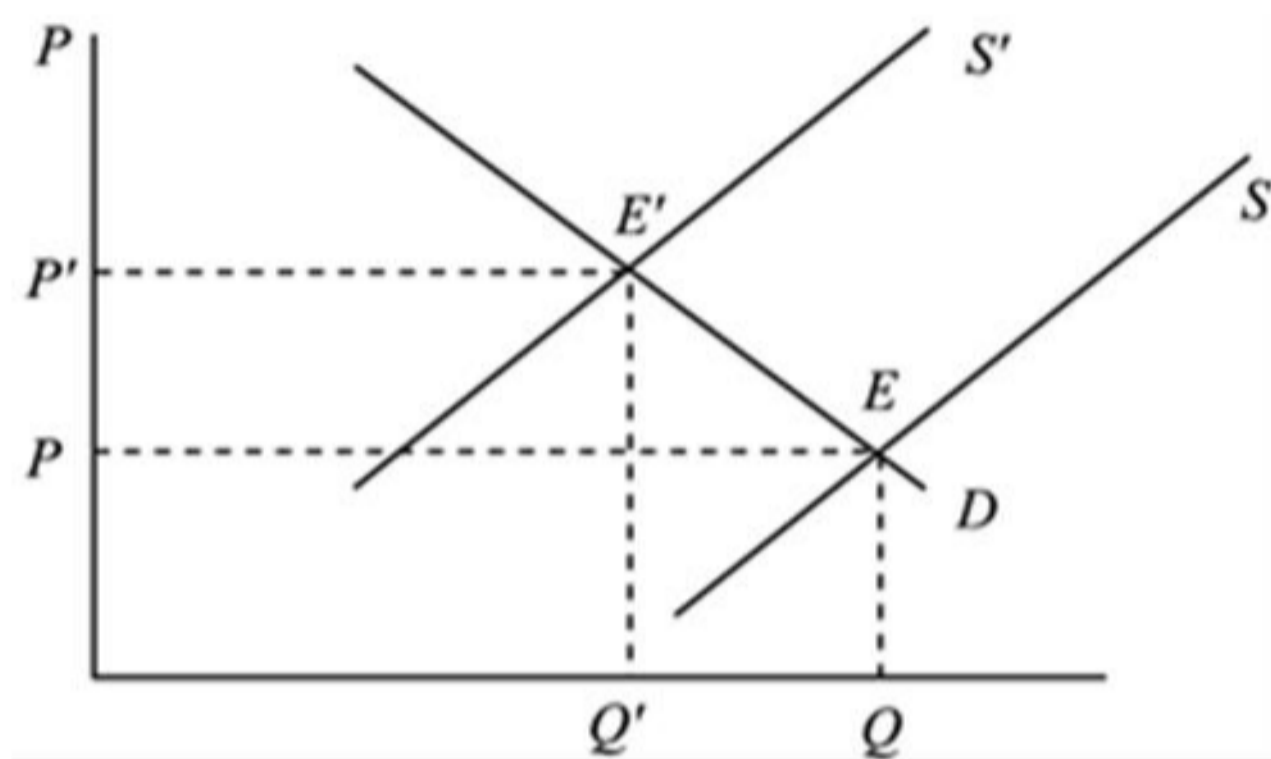


图 1-1 均衡价格模型

11. 假设消费者收入增加 25%，会导致某种商品的需求量增加 10%，则该商品的类型为（ ）。**[2013 年真题]**

- A. 必需品
- B. 低档品
- C. 高档品
- D. 劣等品

**【答案】** A

**【解析】**就一般商品而言，需求收入弹性的大小可以作为划分“高档品”和“必需品”的标准。凡是需求收入弹性系数大于 1 的商品，都可以称为“高档品”，大于 0 且小于 1 的称为“必需品”。需求收入弹性系数为负值的商品称为“低档品”。本题中，该商品的需求收入弹性系数为：

$$E_y = \frac{\Delta Q / Q}{\Delta Y / Y} = 10\% / 25\% = 0.4$$

因此，该商品是必需品。

12. 已知某种商品的需求价格弹性系数是 0.5，当价格为每台 32 元时，其销售量为 1000 台，如果这种商品价格下降 10%，在其他因素不变的条件下，其销售量是（ ）台。**[2013 年真题]**

精准押题QQ1419505160

- A. 1050
- B. 950
- C. 1000
- D. 1100

**【答案】** A

**【解析】**由题意知，需求价格弹性系数 = 需求量变动率 / 价格变动率，可得需求量变动率 = 需求价格弹性系数 × 价格变动率 = 0.5 × 10% = 5%，即销售量增加了 5%。原来销售量为 1000 台，提高 5% 后，销售量 = 1000 × (1 + 5%) = 1050 (台)。

13. 某市决定从 2011 年 8 月 1 日起, 把辖区内一著名风景区门票价格从 32 元提高到 40 元。已知该风景区 2011 年 8 月的游客为 88000 人次, 与 2010 年 8 月相比减少了 12%, 则以弧弹性公式计算的该风景区旅游的需求价格弹性系数是 ( )。[2012 年真题]

- A. 0.48
- B. 0.57
- C. 1.1
- D. 2.08

【答案】B

【解析】2010 年 8 月的游客为:  $88000 \div (1 - 12\%) = 100000$  (人次)。将题干数值代入弧弹性系数计算公式:

$$E_d = \frac{\Delta Q}{(Q_0 + Q_1) / 2} \div \frac{\Delta P}{(P_0 + P_1) / 2}$$

可得需求价格弹性系数为:

$$E_d = \frac{100000 - 88000}{(100000 + 88000) / 2} \div \frac{40 - 32}{(40 + 32) / 2} = 0.57$$

14. 市场供给力量与需求力量相互抵消时所达到的价格水平称为 ( )。[2011 年真题]

- A. 平均价格
- B. 理论价格
- C. 平准价格
- D. 均衡价格

【答案】D

【解析】在现实经济生活中, 市场价格是在需求和供给相互影响、共同作用下形成的。均衡价格就是市场供给力量和需求力量相互抵消时所达到的价格水平。

15. 需求曲线是通过 ( ) 推导出来的。[2018 年真题]

- A. 价格—成本曲线
- B. 价格—消费曲线
- C. 价格弹性曲线
- D. 价格—收入曲线

【答案】B

【解析】需求曲线是通过价格—消费曲线推导出来。不同价格条件下的消费量, 是预算线和无差异曲线的切点上对应的数量, 消费者在需求曲线上消费可以实现效用最大化。

16. 在相对价格保持不变的情况下, 如果消费者的收入减少, 会使预算线 ( )。[2017 年真题]

- A. 向上旋转
- B. 向右平移
- C. 向左平移
- D. 向下旋转

【答案】C

【解析】在相对价格不变的情况下, 收入改变, 会使预算线出现平行移动。收入增加使预算线向右平移, 收入减少使预算线向左平移。

17. 在效用水平不变的条件下, 消费者增加一个单位某一种商品消费时, 必须放弃的另一种商品消费的数量称为 ( )。[2016 年真题]

- A. 收入效应

- B. 边际成本
- C. 替代效应
- D. 商品边际替代率

【答案】D

18. 在消费者行为理论中，能够描述消费者偏好的曲线是（ ）。[2015、2014、2011 年真题]

- A. 无差异曲线
- B. 需求曲线
- C. 预算约束线
- D. 消费者均衡曲线

【答案】A

【解析】A项，无差异曲线是一条表示能够给消费者带来相同满足程度的两种商品的所有组合的曲线，在这条曲线上的所有各点的两种商品的组合带给消费者的满足程度是完全相同的，消费者对这条曲线上各个点的偏好程度是无差异的。

19. 用效用理论分析消费者行为时，会假定消费者追求效用最大化且是理性的，这一前提通常称为（ ）。

[2014 年真题]

- A. 经济人假设
- B. 边际效用最大化理论
- C. 消费行为最优理论
- D. 消费者偏好

【答案】A

【解析】经济人假设认为消费者是追求效用最大化的和理性的，每一个从事经济活动的人都是利己的，总是力图以最小的经济代价去获得自己最大的经济利益。这个假设不仅是分析消费者行为的前提，也是整个经济学的基础。

20. 基数效用论和序数效用论的主要区别是（ ）。[2014 年真题]

- A. 边际效用是否递减
- B. 效用函数是否线性
- C. 是否承认效用
- D. 效用是否可以直接度量

【答案】D

【解析】基数效用论认为效用是可以直接度量的，存在绝对的效用量的大小；而序数效用论认为消费者无法知道效用的绝对数值，可以知道自己对不同消费组合的偏好次序，用第一、第二、……这些表示次序的相对数值来衡量效用。因此，基数效用论和序数效用论的主要区别是效用是否可以直接度量。

21. 在效用水平不变的条件下，随着一种商品消费数量的逐渐增加，消费者为获得这种商品的额外消费而愿意放弃的另一种商品的消费数量会越来越少，这一现象在经济学上称为（ ）。[2013 年真题]

- A. 消费者收入均衡规律
- B. 基数效用递减规律
- C. 商品边际替代率递减规律
- D. 边际效用递减规律

【答案】C

【解析】商品边际替代率递减规律是指在维持效用水平不变的前提下，随着一种商品的消费数量的连续增加，消费者为得到一单位的这种商品所需要放弃的另一种商品的消费量是递减的。边际替代率递减规律决定了无差异曲线的斜率为负，斜率的绝对值是递减的，即凸向原点。

22. 如果无差异曲线上任何一点的斜率  $dy/dx = 1/2$ ，则意味着当消费者拥有更多的商品  $x$  时，愿意放弃（ ）单位商品  $x$  而获得 1 单位的商品  $y$ 。[2010 年真题]

- A. 1/2

B. 1

C.  $1\frac{1}{2}$

D. 2

**【答案】D**

**【解析】**无差异曲线上的斜率的绝对值是两种商品的边际替代率。边际替代率是指在保持消费者效用水平不变的前提下，消费者增加一单位的某种商品时必须放弃的另一种商品的数量。 $MRS = dy/dx = 1/2$ ，表示在效用水平不变的条件下，消费者增加一单位商品 x 的消费必须放弃 1/2 单位的商品 y，因此，反过来可以说，消费者增加 1 单位商品 y 的消费，必须放弃 2 单位商品 x 的消费。

23. 低档品价格上升导致需求下降的主要原因是（ ）。**[2012 年真题]**

A. 替代效应与价格呈反方向变动，收入效应与价格呈反方向变动

B. 替代效应与价格呈同方向变动，收入效应与价格呈反方向变动，但收入效应小于替代效应

C. 替代效应与价格呈反方向变动，收入效应与价格呈同方向变动，但收入效应小于替代效应

D. 替代效应与价格呈同方向变动，收入效应与价格呈同方向变动

**【答案】C**

**【解析】**对于低档品，替代效应与价格呈反方向变化，收入效应与价格呈同方向变化，而大多数情况下，收入效应的作用小于替代效应的作用，对应的需求曲线向右下方倾斜。

24. 假设资本投入不变，当某一生产者使用的劳动数量从 4 个单位增加到 5 个单位时，总产量从 38000 件增加到 39000 件。平均产量从 950 件减少到 780 件。则其边际产量为（ ）件。**[2018 年真题]**

A. 50

B. 100

C. 170

D. 1000

**【答案】D**

**【解析】**边际产量（MP）是在其他投入保持不变条件下，由于新增一单位的投入而多生产出来的数量或产出，用公式表示为： $MP = \Delta TP / \Delta L$ 。即边际产量 =  $(39000 - 38000) / (5 - 4) = 1000$ （件）。

25. 按照经济学家科斯关于企业本质属性的理论，导致市场机制和企业的交易费用不同的主要因素是（ ）。

**[2017 年真题]**

A. 市场不是万能的

B. 企业的机会成本

C. 存在道德风险

D. 信息的不完全性

**【答案】D**

**【解析】**科斯认为企业是为了节约市场交易费用或交易成本而产生的。交易费用包括两类：①签订契约时交易双方面临的偶然因素所可能带来的损失；②签订契约及监督和执行契约所花费的成本。由于信息的不完全性，契约双方都会努力设法收集和获得自己所不掌握的信息，去监督对方的行为，并设法约束对方的违约行为，所有这些都需要交易费用，而由于这些做法在市场和企业中会采取不同的形式，因此交易费用会有所不同。

精准押题QQ1419505160

26. 某企业在短期内，当产量为 3 个单位时，总成本为 2100 元，当产量增长到 4 个单位时，平均总成本为 562.5 元，则该企业此时的边际成本是（ ）元。**[2017 年真题]**

A. 100

B. 200

C. 150

D. 250

**【答案】C**

**【解析】**平均成本 = 总成本 / 总产量，当产量增长到 4 个单位时，平均总成本为 562.5 元，则总成本 =  $562.5 \times 4 = 2250$  元，则边际成本 =  $2250 - 2100 = 150$  元。



$\times 4 = 2250$  (元)。边际成本是增加一个单位产量时总成本的增加额, 则该企业此时的边际成本 =  $(2250 - 2100) / (4 - 3) = 150$  (元)。

27. 根据美国经济学家科斯的的企业理论, 下列说法中, 正确的是 ( )。[2015 年真题]

- A. 企业是市场机制的核心
- B. 企业是市场机制的补充物
- C. 签订、监督和执行契约所花费的成本就是全部的交易成本
- D. 企业是为了节约交易成本而产生的

【答案】D

【解析】科斯认为企业是为了节约市场交易费用或交易成本而产生的, 企业的本质或者显著特征是作为市场机制或价格机制的替代物。交易费用包括两类: ①签订契约时交易双方面临的偶然因素所可能带来的损失; ②签订契约及监督和执行契约所花费的成本。

28. 关于短期边际成本曲线和平均成本曲线之间的关系的说法, 正确的是 ( )。[2015 年真题]

- A. 平均固定成本曲线和边际成本曲线都具有 U 形特征
- B. 当边际成本与平均总成本相等时, 平均总成本曲线位于最低点
- C. 平均总成本曲线比边际成本曲线更早到达最低点
- D. 平均固定成本曲线总是高于边际成本曲线

【答案】B

【解析】B 项, 如图 1-2 所示, 边际成本曲线与平均总成本曲线相交于平均总成本曲线的最低点 M。在 M 点之前, 边际成本曲线低于平均总成本曲线; 在 M 点之后, 边际成本曲线高于平均总成本曲线。当边际成本与平均总成本正好相等时, 平均总成本曲线处于最低点。A 项, 平均固定成本曲线随着产量的增加而递减, 逐渐向横轴接近, 不具有 U 形特征; C 项, 平均总成本曲线比边际成本曲线更晚到达最低点; D 项, 由图 1-2 可知在平均固定成本曲线与边际成本曲线相交之后, 平均固定成本曲线低于边际成本曲线。

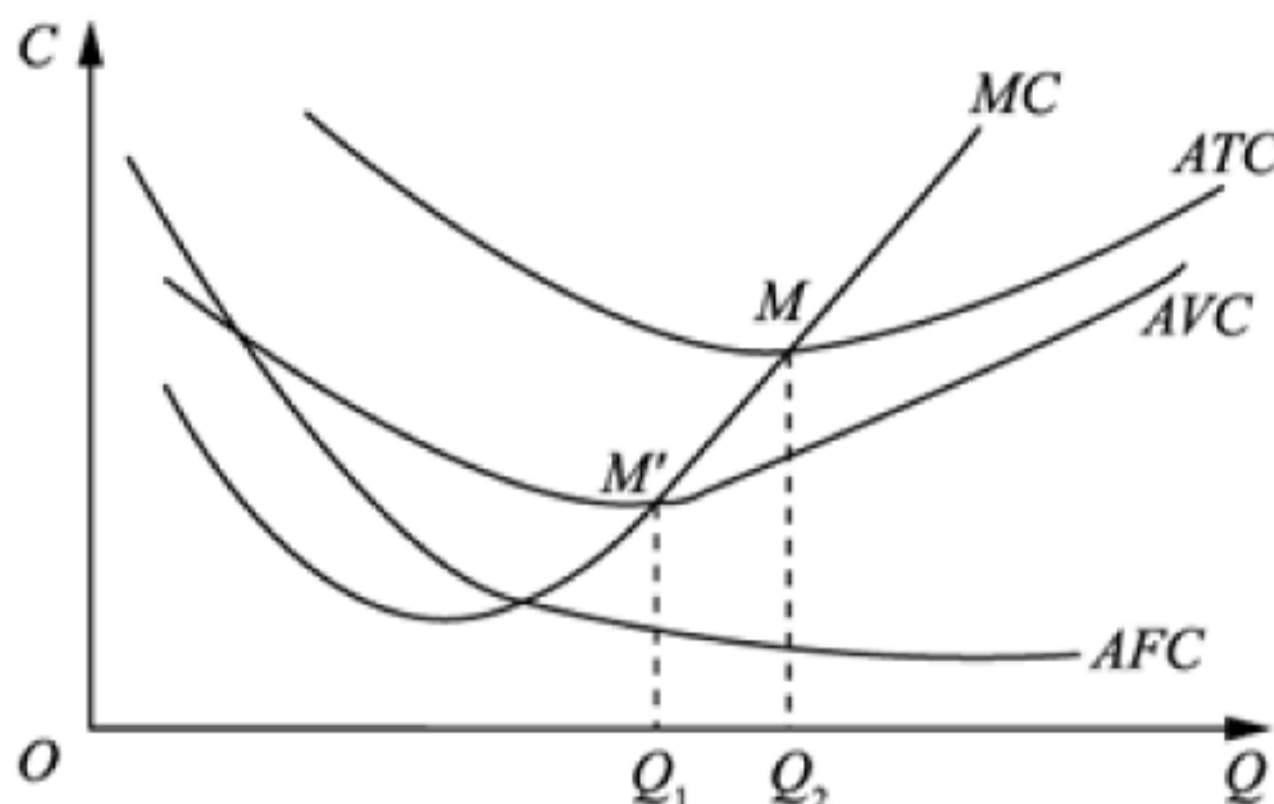


图 1-2 边际成本和平均成本的位置关系

29. 假设只有一种生产要素投入可变、其他生产要素投入不变, 关于边际产量和平均产量关系的说法, 正确的是 ( )。[2013 年真题]

- A. 只要边际产量大于平均产量, 平均产量就是递增的
- B. 只要边际产量等于平均产量, 平均产量就是递增的
- C. 只要边际产量小于平均产量, 平均产量就是递增的
- D. 只要边际产量大于平均产量, 平均产量就是递减的

【答案】A

【解析】如图 1-3 所示, 只要边际产量大于平均产量, 即边际产量曲线在平均产量曲线的上方, 平均产量就是递增的, 即在劳动投入达到  $L_1$  后, 边际产量开始递减, 但边际产量大于平均产量, 所以平均产量仍是递增的。边际产量递减, 而平均产量递增, 可以知道边际产量曲线和平均产量曲线最终会相交, 例如在  $L_2$  时相交, 此时边际产量等于平均产量。

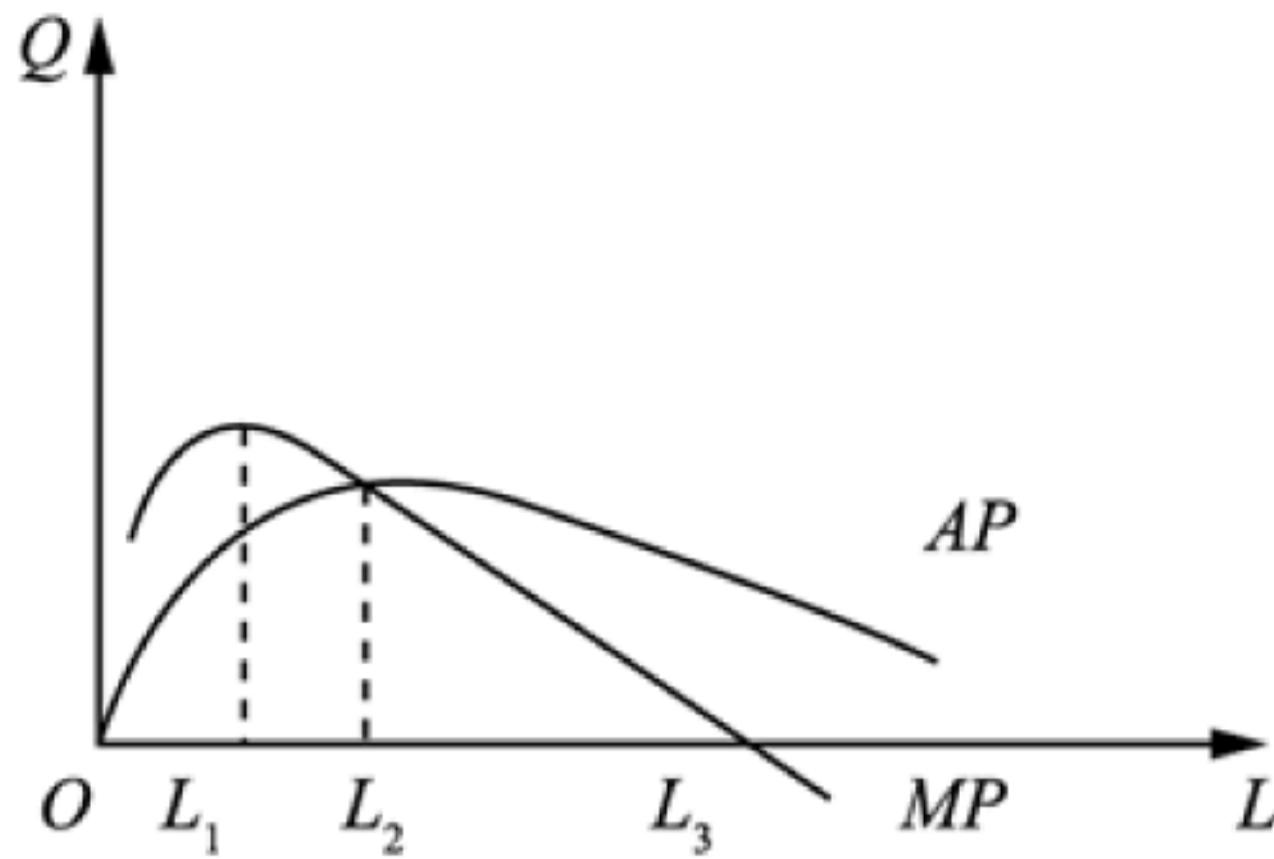


图 1-3 边际产量和平均产量曲线

30. 在进行短期成本函数分析时，关于各种成本曲线变动规律的说法，正确的是（ ）。[2012 年真题]

- A. 总成本曲线和总可变成本曲线的变动规律是一致的
- B. 总固定成本曲线和总可变成本曲线的变动规律是一致的
- C. 平均总成本曲线和总固定成本曲线的变动规律是一致的
- D. 平均固定成本曲线和平均可变成本曲线的变动规律是一致的

【答案】A

【解析】总成本曲线和总可变成本曲线的变动规律是一致的，都是开始以递减的增长率上升，当产量达到一定水平后，便以递增的增长率上升。

31. 企业使用自有的资金应计算利息，从成本角度看，这种利息属于（ ）。[2010 年真题]

- A. 固定成本
- B. 显成本
- C. 隐成本
- D. 会计成本

【答案】C

【解析】隐成本是指企业本身拥有的并且被用于该企业生产过程的那些生产要素的总价格。隐成本是企业自己拥有并使用的资源的成本，它实际上也是一种机会成本，应该从机会成本的角度按照企业自有生产要素在其他用途中所得到的最高收入来支付和计算。

32. 在其他条件不变的情况下，如果连续增加劳动投入，在总产量达到最大值时，劳动的边际产量（ ）。

[2009 年真题]

- A. 大于零
- B. 小于零
- C. 等于零
- D. 等于平均产量

【答案】C

【解析】达到一定状态后，生产要素投入的边际产量递减，但只要边际产量大于 0，每增加一单位的要素投入，都会导致总产量增加，当边际产量为 0 时，总产量达到最大，之后再增加要素投入，将会导致总产量减少。

精准押题QQ1419505160

33. 划分完全竞争市场和垄断竞争市场的主要依据是（ ）。[2018 年真题]

- A. 市场信息是否对称
- B. 所生产的产品是否具有差别性
- C. 生产者的数量是否足够多
- D. 市场是否存在进入障碍

【答案】B

【解析】划分市场结构的主要依据有：①本行业内部的生产者数目或企业数目；②本行业内各企业生产的产品差别程度（这是区分垄断竞争市场和完全竞争市场的主要区别）；③进入障碍的大小。

34. 若企业的平均收益曲线、边际收益曲线和需求曲线是同一条曲线, 则此时的市场类型是 ( )。[2017 年真题]

- A. 完全垄断市场
- B. 完全竞争市场
- C. 寡头垄断市场
- D. 垄断竞争市场

【答案】B

【解析】在完全竞争市场上, 单个企业的价格、平均收益和边际收益都相等, 所以平均收益线 AR、边际收益线 MR、需求曲线是同一条线。

35. 关于寡头垄断市场协议价格的说法, 正确的是 ( )。[2017 年真题]

- A. 协议价格制度非常稳定, 一旦形成就不会破裂
- B. 协议价格制一般会受到政府的鼓励
- C. 它是通过行业中某一占支配地位的企业率先确定价格, 其他企业跟随的方式形成的
- D. 它通过限制各个生产者的产量, 使其行业边际收益等于行业边际成本

【答案】D

【解析】寡头垄断市场上价格形成模型包括: ①协议价格制。即在生产者或销售者之间存在着某种市场份额划分协议条件下, 生产者或销售者之间共同维持一个协议价格, 使得行业净收益最大。其方式是限制各生产者的产量, 使行业边际收益等于行业边际成本。当企业联合起来一起行动, 就形成了卡特尔。但是, 卡特尔成员之间的联盟往往并不牢固。在我国或其他一些国家, 企业之间实施价格共谋或卡特尔是一种违法行为, 受到反垄断法律法规的严格禁止。②价格领袖制。行业中某一个占支配地位的企业率先确定价格, 其他企业则参照这个价格来制定和调整本企业产品的价格, 与其保持一致。

36. 在垄断竞争市场上, 企业利润最大化的决策原则是 ( )。[2016 年真题]

- A. 边际收益等于边际成本
- B. 边际成本大于平均成本
- C. 边际收益大于平均成本
- D. 劳动边际产量为零

【答案】A

【解析】对于所有的市场结构, 企业利润最大化原则都是边际收益等于边际成本, 理由如下: ① $MR > MC$  说明企业增加一单位的产量时所获得的收益大于增加一单位产量时成本的增加额, 此时企业应当继续扩大产量, 以增加利润。② $MR < MC$  说明企业增加一单位的产量时所获得的收益小于增加一单位产量时成本的增加额, 此时企业会减少产量, 以增加利润或减少亏损。③通过产量的调整, 最后实现  $MR = MC$  时, 企业的利润最大。

37. 生产者实施价格歧视的基本条件之一, 是必须有可能依据不同的 ( ) 划分出两组或两组以上的不同购买者。[2016 年真题]

- A. 需求收入弹性
- B. 供给价格弹性
- C. 供给交叉弹性
- D. 需求价格弹性

【答案】D

【解析】实行价格歧视的基本条件包括: ①必须有可能根据不同的需求价格弹性划分出两组或两组以上的不同购买者; ②市场必须是能够有效地隔离开的, 同一产品不能在不同市场之间流动。当上述两个条件同时满足, 企业可以通过对缺乏弹性的市场规定较高的价格, 而对富有弹性的市场规定较低的价格, 增加总收益。

38. 企业实行价格歧视的基本原则是 ( )。[2015、2013 年真题]

- A. 不同市场上的平均收益相等并且等于边际成本
- B. 不同市场上的边际收益相等并且大于边际成本
- C. 不同市场上的边际收益相等并且等于边际成本

D. 不同市场上的平均收益相等并且小于边际成本

**【答案】 C**

**【解析】**企业实行价格歧视的基本原则是，不同市场上的边际收益相等并且等于边际成本。垄断企业可以对需求价格弹性较小的市场规定较高的价格，实行“少销厚利”；而对需求价格弹性较大的市场规定较低的价格，实行“薄利多销”。

39. 关于完全垄断企业的需求曲线的说法，正确的是（ ）。[2014、2010 年真题]

- A. 完全垄断企业的需求曲线是一条平行于横轴的水平线
- B. 完全垄断企业的需求曲线位于其平均收益曲线的上方
- C. 完全垄断企业的需求曲线与整个行业的需求曲线相同
- D. 完全垄断企业的需求曲线与完全竞争企业的需求曲线相同

**【答案】 C**

**【解析】**按照完全垄断市场的定义，一个行业中只有一个企业，它控制了本行业的全部供给。因此，完全垄断企业的需求曲线就是行业的需求曲线，二者完全相同。完全垄断企业的需求曲线向右下方倾斜，斜率为负。

40. 关于完全垄断企业的需求曲线和收益曲线关系的说法，正确的是（ ）。[2012 年真题]

- A. 需求曲线和平均收益曲线是完全重合的
- B. 需求曲线和边际收益曲线是完全重合的
- C. 边际收益曲线和平均收益曲线是完全重合的
- D. 边际收益曲线位于平均收益曲线的上方

**【答案】 A**

**【解析】**在完全垄断市场上，平均收益曲线与需求曲线是重合的，但边际收益曲线位于平均收益线的下方，而且比平均收益曲线陡峭。

41. 完全竞争市场和垄断竞争市场的主要区别在于（ ）。[2011、2007 年真题]

- A. 企业是否可以取得最大利润
- B. 产品是否具有差别性
- C. 是否存在政府管制
- D. 消费者的价格弹性大小

**【答案】 B**

**【解析】**完全竞争市场和垄断竞争市场的主要区别在于产品是否具有差别性。在垄断竞争市场上，不同企业生产的产品虽然属于同一大类，但却具有一定的差别性。这种差别既可能是实际质量的差别，也可能是形式上的差别，还可能是消费者感觉上的差别。

42. 在完全竞争要素市场上，生产者边际要素成本曲线，平均要素成本和要素供给曲线的关系是（ ）。

[2018 年真题]

- A. 边际要素成本曲线与平均要素成本曲线重合，要素供给曲线向右上方倾斜
- B. 边际要素成本曲线、平均要素成本曲线和要素供给曲线是重合的
- C. 边际要素成本曲线向右下方倾斜，而平均要素成本曲线和要素供给曲线重合
- D. 边际要素成本曲线、平均要素成本曲线和要素供给曲线都是 U 形曲线

**【答案】 B**

**【解析】**完全竞争生产者在购买要素时是完全竞争的，即生产者完全是要素市场价格的接受者；所以，生产者面临的要素供给曲线是一条水平线，即生产者可以按现行市场价格购买到其想要的生产要素。由于要素价格为常数，所以有  $MFC=AFC=W_1$ ，即完全竞争生产者的边际要素成本曲线及平均要素成本曲线与要素供给曲线重合。

43. 在生产要素市场上，劳动的供给原则是（ ）。[2017 年真题]

- A. 劳动的平均效用等于闲暇的边际效用
- B. 劳动的边际效用等于闲暇的边际效用
- C. 劳动的边际效用大于闲暇的边际效用

D. 劳动的平均效用等于闲暇的平均效用

**【答案】B**

**【解析】**消费者的要素供给的目标是实现效用最大化。为获得最大效用必须满足的条件是，劳动的边际效用等于闲暇的边际效用。如果劳动的边际效用小于闲暇的边际效用，则可以通过增加闲暇减少劳动来增加消费者的总效用；反之，如果劳动的边际效用大于闲暇的边际效用，则可以通过减少闲暇增加劳动来增加总效用。

44. 生产者使用生产要素的原则是（ ）。[2016、2015 年真题]

- A. 边际成本等于边际收益
- B. 边际物质产品等于边际收益产品
- C. 边际要素成本等于边际收益产品
- D. 边际要素成本等于边际产品价值

**【答案】C**

**【解析】**生产者使用要素的原则，就是在一定时间内，在一定条件下，根据企业内部的生产状况和市场情况，确定要素的使用量，以实现利润最大化，即边际要素成本等于边际收益产品。当边际收益产品大于边际要素成本时，每增加使用一个单位的要素给生产者带来的收益就会大于这个要素给生产者带来的成本。于是，生产者就会使用更多的要素，一直到边际收益产品等于边际要素成本时为止。反之，生产者会减少要素的投入，一直到边际收益产品等于边际要素成本时为止。

45. 关于外部性的说法，正确的是（ ）。[2017 年真题]

- A. 在完全竞争条件下，外部性的存在不会影响资源的最优配置
- B. 即使在完全竞争条件下，外部性的存在也使得资源配置难以达到帕累托最优状态
- C. 外部性只有外部不经济这一种状态
- D. 外部性只发生在生产领域

**【答案】B**

**【解析】**外部性导致资源配置失当，即使是在完全竞争条件下，由于存在外部性的影响，整个经济的资源配置也不可能达到帕累托最优状态。根据对他人的影响外部性可以分为外部经济与外部不经济。根据经济活动主体是生产者还是消费者，外部性分为生产的外部性和消费的外部性。

46. 关于经济学家科斯提出的产权理论的说法，正确的是（ ）。[2017、2011 年真题]

- A. 很多外部性的产生都是因为产权不清晰导致的
- B. 不同的产权制度会导致相同的资源配置效率
- C. 不论产权是否明确，只要交易成本为零，就可以实现资源的最优配置
- D. 如果产权是明晰的，不论交易成本多大，市场最终会实现资源的最优配置

**【答案】A**

**【解析】**按照美国经济学家科斯的产权理论，很多外部性的产生都是由于产权不清晰导致的。关于科斯定理，通常的说法是：只要财产权是明确的，并且交易成本为零或者很小，那么，无论在开始时将财产权赋予谁，市场均衡的最终结果都是有效率的，实现资源配置的帕累托最优。不同的产权制度，会导致不同的资源配置效率。

47. 在某种纯公共物品的总供给量保持不变的情况下，一个人增加该物品的消费，其他人对该物品的消费会（ ）。[2016、2013 年真题]

- A. 相应增加
- B. 相应减少
- C. 不受影响
- D. 趋于平均

**【答案】C**

**【解析】**由于公共物品具有非竞争性的特点，使得消费者对某一种公共物品的消费并不影响其他人对该公共物品的消费。

48. 产生外部经济的生产者产出水平低于社会最优产出水平的原因是（ ）。[2015 年真题]

- A. 边际私人成本低于边际社会成本

- B. 边际私人成本等于边际社会成本
- C. 私人收益等于社会收益
- D. 私人收益小于社会收益

**【答案】D**

**【解析】**对于产生外部经济的生产者而言，由于其私人收益小于社会收益（因为社会收益等于私人收益与外部收益之和，而外部收益却不能为生产者通过市场价格获得），因而缺乏生产积极性，其产出水平就会低于社会最优产出水平。

49. 最典型的纯公共物品是（ ）。[2015 年真题]

- A. 教育
- B. 国防
- C. 医疗卫生
- D. 交通运输

**【答案】B**

**【解析】**纯公共物品是具有完全的非竞争性和完全的非排他性的物品，一般认为，国防、治安等都是最典型的纯粹公共物品。纯公共物品一般通过纳税间接购买而被动消费，消费时无法分割，只能由政府提供。

50. 在某种既定的资源配置状态中，帕累托最优状态是指（ ）。[2014、2013 年真题]

- A. 不存在帕累托改进
- B. 一国的国民收入实现了公平分配
- C. 实现外部影响内部化
- D. 社会全体成员的福利同时得到改善

**【答案】A**

**【解析】**资源实现最优配置的标准是，当一种资源的任何重新分配，已经不可能实现在不使一个人福利减少的情况下使任何一个人的福利增加。如果既定的资源配置状态能够在其他人福利水平不下降的情况下，通过重新配置资源，使得至少有一个人的福利水平有所提高，则称这种资源重新配置为“帕累托改进”。所以，帕累托最优状态是指不存在帕累托改进的资源配置状态。

51. 政府通过罚款或增税来抑制的经济活动属于（ ）。[2014 年真题]

- A. 准公共物品生产
- B. 产生外部不经济的活动
- C. 纯公共物品生产
- D. 产生外部经济的活动

**【答案】B**

**【解析】**外部不经济是指某人或某企业的经济活动会给社会上其他人带来损害，但该人或该企业却不必为这种损害进行补偿。政府对产生外部不经济的企业可以使用税收手段或罚款，增税部分或罚款应等于社会成本与私人成本的差额，这会使企业的私人成本等于社会成本，从而使资源得到更有效的利用。

52. 在买卖双方达成协议后，协议的一方利用信息不对称，通过改变自己行为来损害对方的利益，这种现象称为（ ）。[2010 年真题]

- A. 道德风险
- B. 劣币驱逐良币
- C. 逆向选择
- D. 外部不经济

**【答案】A**

**【解析】**由于信息不对称，市场的一方不能观察到另一方的行动，则另一方就可能采取不利于对方的行动，这就是道德风险问题。道德风险是发生在协议签订之后的一种市场失灵现象。

53. 从经济学理论上说，生产的外部不经济会造成（ ）。[2008 年真题]

- A. 资源均衡配置

- B. 资源有效配置
- C. 产品供给过少
- D. 产品供给过多

**【答案】D**

**【解析】**外部不经济是指某人或某企业的经济活动会给社会其他人带来损害，但该人或该企业却不必为这种损害进行补偿。对于产生外部不经济的生产者，边际私人成本小于边际社会成本，倾向于扩大生产，产出水平就会大于社会最优产出水平，造成产品的供给过多。

54. 如果用字母 C 表示消费，用 I 表示投资、用 G 表示政府购买，用 (X-M) 表示净出口，则按照支出法计算的国内生产总值 (GDP) 的公式是 ( )。[2018 年真题]

- A.  $GDP=C+I$
- B.  $GDP=C+I+G$
- C.  $GDP=C+I+G+(X-M)$
- D.  $GDP=C+I+G+X$

**【答案】C**

**【解析】**用支出法计算 GDP 的公式可以表示为： $GDP=C+I+G+(X-M)$ ，其中：C 表示消费；I 表示投资；G 表示政府购买；(X-M) 表示净出口。

55. 关于边际消费倾向、平均消费倾向及其相互关系的说法，正确的是 ( )。[2017 年真题]
- A. 边际消费倾向恒等于平均消费倾向
  - B. 边际消费倾向可能大于、等于或小于 0
  - C. 平均消费倾向总是在 0 到 1 之间
  - D. 边际消费倾向总是小于平均消费倾向

**【答案】D**

**【解析】**B 项，一般来说，边际消费倾向总是大于 0 而小于 1 的，即  $0 < MPC < 1$ 。C 项，平均消费倾向可能大于、等于或小于 1。AD 两项，边际消费倾向总是小于平均消费倾向。这是因为，一般来讲，人们的消费可划分为自发消费和引致消费。自发消费一般来讲变动不大，可看作一个常数。反映在图形上就是函数在纵轴上有一个正的截距项，从而可推导出边际消费倾向总是小于平均消费倾向。

56. 假设一个社会的边际消费倾向  $\beta$  为 0.8，则投资乘数 k 等于 ( )。[2016 年真题]
- A. 0.20
  - B. 1.25
  - C. 0.80
  - D. 5.00

**【答案】D**

**【解析】**投资乘数是边际储蓄倾向的倒数，即投资乘数  $k=1/(1-\beta)$ ，本题中  $k=1/(1-0.8)=5.00$ 。

57. 可用于计算资本形成率和最终消费率的国内生产总值的核算方法是 ( )。[2015 年真题]
- A. 支出法
  - B. 收入法
  - C. 生产法
  - D. 综合法

**【答案】A**

**【解析】**支出法计算国内生产总值是从社会最终使用的角度计算的国内生产总值。运用支出法核算国内生产总值，可以计算资本形成率和最终消费率。资本形成率是指资本形成总额占国内生产总值的比重；最终消费率指最终消费支出占国内生产总值的比重。

58. 提出生命周期消费理论的美国经济学家是 ( )。[2015 年真题]
- A. 莫迪利安尼
  - B. 凯恩斯

- C. 弗里德曼
- D. 科斯

【答案】A

【解析】美国经济学家莫迪利安尼提出的生命周期消费理论强调了消费与个人生命周期阶段之间的关系，认为人们会在更长的时间范围内计划他们的生活消费开支，以达到他们在整个生命周期内消费的最佳配置，实现一生消费效用的最大化。各个家庭的消费要取决于他们在整个生命周期内所获得的收入与财产，即消费取决于家庭所处的生命周期阶段。

59. 以边际消费倾向递减规律为前提的消费理论是（ ）。[2014年真题]
- A. 生命周期消费理论
  - B. 持久收入理论
  - C. 凯恩斯消费理论
  - D. 从众消费理论

【答案】C

【解析】凯恩斯消费理论有3个假设：①边际消费倾向递减规律，即随着人们收入的增长，人们的消费随之增长，但消费支出在收入中所占比重却不断减少；②收入是决定消费的最重要的因素；③平均消费倾向会随着收入的增加而减少。

60. 关于国内生产总值的说法，正确的是（ ）。[2011年真题]
- A. 国内生产总值是按市场价格计算的一个国家（或地区）在一定时期内生产活动的最终成果
  - B. 国内生产总值又称为国民总收入
  - C. 国内生产总值又称为国民生产总值
  - D. 国内生产总值仅具有价值形态

【答案】A

【解析】BC两项，国民总收入（GNI）又称国民生产总值（GNP），跟国内生产总值（GDP）的核算原则不一样；D项，国内生产总值有三种形态，即价值形态、收入形态和产品形态。

61. 各单位按收入法计算的增加值应包括劳动者报酬、固定资产折旧、（ ）和营业盈余。[2010年真题]
- A. 最终消费
  - B. 资本形成总额
  - C. 净出口
  - D. 生产税净额

【答案】D

【解析】收入法是从生产过程中创造原始收入的角度计算的国内生产总值。各单位的增加值等于一定时期内的劳动者报酬、固定资产折旧、生产税净额和营业盈余四项之和。

62. 如果用I表示投资、S表示储蓄、T表示税收、G表示政府购买，X表示出口、M表示进口，则四部门经济中储蓄和投资的恒等关系是（ ）。[2009年真题]

- A.  $I=S+(T-G)+(M-X)$
- B.  $I=S+T-G+M$
- C.  $I=S+(T-G)$
- D.  $I=S+(M-X)$

【答案】A

【解析】四部门经济中国民收入构成的基本公式为： $C+I+G+(X-M)=C+S+T$ ，公式两边同时消去C，就得到： $I+G+(X-M)=S+T$ 。该式可以化简为： $I=S+(T-G)+(M-X)$ ，此即为四部门经济中储蓄和投资的恒等关系。C项为三部门经济中储蓄和投资的恒等关系。

63. 假设某国2010~2016年GDP年均增长率为7.5%，资本存量年均增长率5%，劳动力年均增长率2%，而且资本、劳动力在GDP增长中的份额分别为50%、50%。这一时期该国全要素生产率年均增长率应为（ ）。

[2018年真题]



- A. 4.0%
- B. 4.5%
- C. 3.0%
- D. 3.5%

**【答案】** A

**【解析】** 全要素生产率是经济增长中扣除劳动、资本等因素投入数量等因素对经济增长率的贡献后的余值。由题意，技术进步率（全要素生产率）= 经济增长率 - (劳动份额 × 劳动增长率) - (资本份额 × 资本增长率)，即技术进步率 =  $7.5\% - (50\% \times 2\%) - (50\% \times 5\%) = 4\%$ 。

64. 下列分析和预测经济运行及其波动的统计指标中，属于一致指标的是（ ）。[2017 年真题]

- A. 社会消费品零售总额
- B. 制造业订货单
- C. 房地产价格指数
- D. 广义货币供应量

**【答案】** A

**【解析】** 一致指标，也称同步指标，是指这些指标的峰顶与谷底出现的时间与总体经济运行的峰谷出现的时间一致。在我国，一般把工业总产值、固定资产投资额和社会消费品零售总额等视为一致指标。BCD 三项均属于先行指标。

65. 下列分析和预测经济波动的指标中，属于先行指标的是（ ）。[2016 年真题]

- A. 固定资产投资额
- B. 制造业订货单
- C. 库存
- D. 居民消费价格指数

**【答案】** B

**【解析】** 先行指标，又称领先指标，通过这些指标可以预测总体经济运行的轨迹，例如制造业订货单、股票价格指数和广义货币  $M_2$  等就属于先行指标。A 项属于一致指标，CD 两项属于滞后指标。

66. 关于可持续性发展的说法，正确的是（ ）。[2016 年真题]

- A. 既满足当代人的需要，又不对后代人满足其需要的能力构成危害
- B. 在一个时期内保持经济高速增长
- C. 保持经济稳定性增长
- D. 重视科技进步

**【答案】** A

**【解析】** 可持续发展是指“既满足当代人的需要，又不对后代人满足其需要的能力构成危害的发展”。这一概念的核心思想是：既要使当代人的各种需要得到充分满足，个人得到充分发展，又要保护资源和生态环境，不对后代人的生存和发展构成威胁。

67. 如果一个经济体在经济运行处于低谷时的经济增长为负增长，即经济总量 GDP 绝对减少，具有这种特征的经济周期称为（ ）。[2015、2014 年真题]

- A. 中周期
- B. 古典型周期
- C. 长波循环周期
- D. 增长型周期

**【答案】** B

**【解析】** 按照经济总量绝对下降或相对下降的不同情况，经济周期可分为古典型周期和增长型周期。如果经济运行处在低谷时的经济增长为负增长，即经济总量 GDP 绝对减少，通常将其称为古典型周期；如果处在低谷时的经济增长率为正值，即经济总量只是相对减少而非绝对减少，则为增长型周期。

68. 经济发展的核心是（ ）。[2015 年真题]

- A. 经济快速增长
- B. 第三产业比重逐渐提高
- C. 人民生活水平的持续提高
- D. 农村人口向城市转移

**【答案】** C

**【解析】** 经济发展的核心是人民生活水平的持续的提高。因此，以人为本是经济发展的基本内核。

69. 奥肯定律描述的是（ ）之间的关系。**[2018 年真题]**

- A. 经济波动和就业
- B. 经济增长和通货膨胀
- C. 经济增长和居民收入
- D. 经济增长和失业

**【答案】** D

**【解析】** 奥肯根据美国的数据，得出了一个结论：相对于潜在的 GDP，即一个经济体在充分就业状态下所能实现的 GDP，实际 GDP 每下降 2 个百分点，失业率就会上升 1 个百分点。奥肯定律表明了在经济增长和就业之间存在一定的正相关关系，政府应当把促进经济增长作为增加就业或降低失业率的主要途径。

70. 作为宏观经济分析的重要工具，简单的菲利普斯曲线描述的是失业率与（ ）之间的相互关系。**[2018、2016、2014 年真题]**

- A. 企业利润增长率
- B. 工资水平增长率
- C. 产业结构
- D. 通货膨胀率

**【答案】** D

**【解析】** 简单的菲利普斯曲线是描述通货膨胀率和失业率之间的关系的曲线：通货膨胀率和失业率存在负相关关系。当失业率降低时，通货膨胀率就会趋于上升。反之，当失业率上升时，通货膨胀率就会趋于下降。

71. 关于我国失业率的说法，正确的是（ ）。**[2017 年真题]**

- A. 我国失业率统计方法与西方发达国家相同
- B. 我国政府公布的失业率覆盖了城镇和农村
- C. 我国政府公布的是城镇登记失业率
- D. 我国政府公布的是自愿失业率

**【答案】** C

**【解析】** 我国统计部门计算和公布的就业和失业水平方面的指标主要是城镇登记失业率。我国目前统计的失业率和西方发达国家的失业率的含义和计算方式具有明显差别：我国只计算城镇地区的失业率，而没有计算覆盖全国城镇和农村地区的统一的失业率；在计算城镇失业率时，主要是以是否具有本地城镇户口为标准。

72. 关于价格总水平影响因素的说法，正确的是（ ）。**[2015 年真题]**

- A. 从长期来看，总供给变动与价格总水平无关
- B. 从长期来看，价格总水平的变动与总产出的变化呈同方向变动
- C. 价格总水平的变动与货币供给量呈反方向变动
- D. 如果总需求增长慢于总供给的增长，价格总水平就有可能上升

**【答案】** A

**【解析】** 长期总供给曲线是一条与横轴相交的垂直线。从长期来看，总供给变动与价格总水平无关。长期总供给只取决于劳动、资本与技术，以及经济体制等因素。BC 两项，价格总水平的变动与货币供给量、货币流通速度的变化呈正方向变动，而与总产出的变化呈反方向变动。D 项，价格总水平是由总需求和总供给共同决定的。如果总需求增长慢于总供给的增长，价格总水平就有可能下降。

73. 如果以  $\pi$  代表价格总水平的变动率， $m$  代表货币供给量的变动率， $v$  代表货币流通速度的变动率， $y$  代表国内生产总值的变动率，那么价格总水平的决定方程是（ ）。**[2011 年真题]**

- A.  $\pi = m + v - y$
- B.  $\pi = m + v$
- C.  $\pi = m - y$
- D.  $\pi = v - y$

【答案】A

74. 能够全面地反映通货膨胀状况的价格指数是 ( )。[2010年真题]

- A. 居民消费价格指数
- B. 股票价格指数
- C. 农产品收购价格指数
- D. 房屋销售价格指数

【答案】A

【解析】我国目前采用居民消费价格指数(CPI)作为衡量价格总水平变动的基本指标。

75. 经济学家亚当·斯密提出的国际贸易理论是 ( )。[2018年真题]

- A. 绝对优势理论
- B. 要素禀赋理论
- C. 比较优势理论
- D. 规模经济贸易理论

【答案】A

76. 下列政府政策措施中,能对进口贸易产生限制作用的是 ( )。[2017年真题]

- A. 设定卫生检疫标准
- B. 直接补贴
- C. 出口信贷
- D. 限制倾销

【答案】A

【解析】政府对进口贸易的干预措施:①关税限制;②非关税限制,包括进口配额、自愿出口限制、歧视性公共采购、技术标准和卫生检疫标准等。政府干预出口贸易以刺激出口增加的主要措施是出口补贴,包括直接补贴和间接补贴。间接补贴包括出口退税、出口信贷等。

77. 主张各国应该生产、出口密集使用本国充裕要素的产品,进口需要密集使用本国稀缺要素的产品。这种国际贸易理论是 ( )。[2016、2013年真题]

- A. 要素禀赋理论
- B. 绝对优势理论
- C. 比较优势理论
- D. 后发优势贸易理论

【答案】A

【解析】赫克歇尔-俄林理论,又称要素禀赋理论,主张各国应该集中生产并出口那些能够充分利用本国充裕要素的产品,进口那些需要密集使用本国稀缺要素的产品。

78. 政府鼓励增加出口的主要措施是 ( )。[2016年真题]

- A. 提高外贸企业职工工资
- B. 增加出口补贴
- C. 反倾销
- D. 实施出口配额

【答案】B

【解析】政府除利用关税和非关税措施限制和调节进口贸易外,还常常采取各种鼓励出口的措施对出口贸易进行干预。政府干预出口贸易以刺激出口增加的主要措施是出口补贴。

79. 用于解释相似资源储备国家之间和同类工业品之间的双向贸易交易理论是由（ ）提出的。[2017、2015、2014 年真题]

- A. 美国经济学家克鲁格曼
- B. 英国经济学家亚当·斯密
- C. 英国经济学家大卫·李嘉图
- D. 瑞典经济学家赫克歇尔和俄林

【答案】A

【解析】美国经济学家克鲁格曼等提出了规模经济的贸易学说，来解释相似资源储备国家之间和同类工业品之间的双向贸易现象，并形成了当代贸易理论。

80. 由于世界卫生组织报告某种蘑菇对人体有害，导致这种蘑菇的销售下降了，这是因为蘑菇的（ ）。

- A. 需求变动
- B. 需求量的变动
- C. 价格上升
- D. 价格下降

【答案】A

【解析】需求量的变动是指在其他条件不变的前提下，因为商品的价格变化所引起的商品的需求数量的变化。需求的变动是指在价格不变的情况下，其他条件的变化导致商品需求数量的变动。本题中，世界卫生组织的报告显然影响了人们对这种蘑菇的偏好，从而影响了人们对这种蘑菇的需求，使蘑菇的需求曲线发生了移动，而不是影响了这种蘑菇的价格。

81. 在其他条件不变的情况下，某种产品自身的价格和其供给的变动成（ ）变化。

- A. 正向
- B. 反向
- C. 先正向后反向
- D. 先反向后正向

【答案】A

【解析】在其他条件一定时，价格提高，就会增加企业的收益或利润，从而刺激企业去生产更多的产品，其他企业也会生产这种产品，使供给增加；反之，价格下降，收益减小，供给就会减少。

82. 需求价格点弹性适用于（ ）。

- A. 价格和需求量变动较大的场合
- B. 价格和需求量变动较小的场合
- C. 价格和供给量变动较大的场合
- D. 价格和供给量变动较小的场合

【答案】B

【解析】需求价格点弹性是指需求曲线上某一点上的弹性，它等于需求量的无穷小的相对变化对价格的一个无穷小的相对变化的比。需求价格点弹性表明的只是一点上的弹性，因此只适用于价格和需求量变动较小的场合。

83. 一般来说，（ ）的产品需求弹性较大。

- A. 生活必需品
- B. 有许多相近的替代品
- C. 垄断性
- D. 用途少

【答案】B

【解析】影响需求价格弹性的因素有：①替代品的数量和相近程度，一种商品若有许多相近的替代品，那么这种商品的需求价格弹性大。②商品的重要性，一种商品如果是生活必需品，其需求价格弹性就小或缺乏弹性。而一些非必需的高档商品，像贵重首饰、高档服装等，其需求价格弹性就大。③商品用途的多少，一般来说，一种商品的用途越多，它的需求价格弹性就越大，反之就缺乏弹性。④时间与需求价格弹性的大小至关重要，时间越短，商品的需求价格弹性越小；时间越长，商品的需求价格弹性就越大。

84. 弧弹性适用于（ ）的场合。
- A. 价格和需求量变动较小
  - B. 价格和需求量变动较大
  - C. 价格变动较大，需求量变动较小
  - D. 价格变动较小，需求量变动较大

**【答案】** B

**【解析】** 需求价格弹性系数的公式有点弹性公式和弧弹性公式两种：前者表现的是一点上的弹性，适用于价格和需求量变动较小的场合；后者表现的是两点之间的弹性，适用于价格和需求量变动较大的场合。

85. 下列情况中属于需求高弹性的是（ ）。
- A. 价格下降 1%，需求量增加 2%
  - B. 价格上升 2%，需求量下降 2%
  - C. 价格下降 5%，需求量增加 3%
  - D. 价格下降 3%，需求量下降 4%

**【答案】** A

**【解析】** 需求价格弹性是指需求量对价格变动的反应程度，是需求量变动百分比与价格变动百分比的比率，分为三种情况：①当需求价格弹性系数大于 1 时，称为需求富有弹性或高弹性；②当需求价格弹性系数等于 1 时，称为需求单一弹性；③当需求价格弹性系数小于 1 时，称为需求缺乏弹性或低弹性。由此可知，ABC 三项情况分别是需求高弹性、单一弹性和低弹性；D 项情况一般不存在，因为价格与需求量一般成反比。

86. 根据基数效用理论，当某消费者对商品 X 的消费达到饱和时，其边际效用 MU（ ）。
- A. 达到最大值
  - B. 达到最小值
  - C. 等于零
  - D. 大于零

**【答案】** C

**【解析】** 根据基数效用理论，边际效用满足递减规律，即在一定时期内，随着消费某种商品数量的增加，消费者从中得到的总效用在增加，但是以递减的速度增加，即边际效用递减，但此时的边际效用为正数；当商品消费量达到一定程度后，边际效用递减为零，此时总效用达到最大；之后再增加消费，边际效用递减为负，总效用开始减少。

87. 边际替代率沿着无差异曲线递减的一个前提条件是（ ）。
- A. 无差异曲线斜率为负值
  - B. 无差异曲线斜率为正值
  - C. 无差异曲线是凹的
  - D. 无差异曲线凸向原点

**【答案】** D

**【解析】** 在维持效用水平不变的前提下，随着一种商品的消费数量的连续增加，消费者为得到一单位的这种商品所需要放弃的另一种商品的消费量是递减的。边际替代率递减规律决定了无差异曲线的斜率的绝对值是递减的，即凸向原点。

精准押题QQ1419505160

88. 已知 X 的价格为 8 元，Y 的价格为 4 元。若消费者购买 5 个单位 X 和 3 个单位 Y，此时 X 和 Y 的边际效用分别为 20 和 14，那么，假设消费者的总花费不变，为获得效用最大化，该消费者应该（ ）。
- A. 停止购买这两种商品
  - B. 增加对 X 的购买，减少对 Y 的购买
  - C. 增加对 Y 的购买，减少对 X 的购买
  - D. 同时增加对两种商品的购买

**【答案】** C

**【解析】** 消费者最优选择的均衡条件为：

$$\frac{MU_X}{MU_Y} = \frac{P_X}{P_Y}$$

根据题意,

$$\frac{MU_X}{MU_Y} = \frac{20}{14} < \frac{P_X}{P_Y} = \frac{8}{4}$$

因而此时理性的消费者应该减少对 X 商品的购买, 增加对 Y 商品的购买, 从而使 X 的边际效用增加, Y 的边际效用减小, 从而实现

$$\frac{MU_X}{MU_Y} = \frac{P_X}{P_Y}$$

获得效用最大化。

89. 正常物品价格上升导致需求量减少的原因在于 ( )。

- A. 替代效应使需求量增加, 收入效应使需求量减少
- B. 替代效应使需求量增加, 收入效应使需求量增加
- C. 替代效应使需求量减少, 收入效应使需求量减少
- D. 替代效应使需求量减少, 收入效应使需求量增加

【答案】C

【解析】对于正常物品来说, 替代效应与价格呈反方向的变动, 收入效应也与价格呈反方向的变动。

90. 其他条件不变, 某一生产要素的边际产量达到最大时, ( )。

- A. 总产量达到最大
- B. 平均产量达到最大
- C. 总产量递增最快
- D. 平均产量大于边际产量

【答案】C

【解析】其他条件不变时, 当某一生产要素的边际产量最大时, 总产量的递增最快, 此时边际产量大于平均产量; 之后, 边际产量开始递减, 当其递减为 0 时, 总产量达到最大。

91. 在长期内, 理性的投资者会将生产控制在 ( ) 阶段。

- A. 规模报酬递增
- B. 规模报酬不变
- C. 规模报酬递减
- D. 规模报酬为 0

【答案】B

【解析】一般认为, 在长期生产过程中, 企业的规模报酬一般呈现一定的规律, 当企业规模较小时扩大生产规模报酬递增, 此时企业会扩大规模以得到产量递增所能带来的好处, 将生产保持在规模报酬不变的阶段。

92. 短期成本函数和长期成本函数的区别在于是否含有 ( )。

- A. 固定成本
- B. 可变成本
- C. 边际成本
- D. 外部成本

【答案】A

【解析】短期是指生产期间很短, 总有一种或几种生产要素的数量固定不变, 有固定成本和可变成本之分;

长期是指企业在这段时间内可以调整生产要素，从而一切生产要素都是可变的。可见，短期成本函数和长期成本函数的区别就在于是否含有固定成本。

93. 企业的（ ）是指企业的总收益与总成本的差额。

- A. 总收入
- B. 总产出
- C. 经济利润
- D. 毛利润

【答案】C

【解析】企业的经济利润是指企业的总收益和总成本的差额，简称企业的利润。企业所追求的最大利润，指的就是最大的经济利润。

94. （ ）是指企业购买或租用的生产要素所实际支付的货币支出。

- A. 显成本
- B. 隐成本
- C. 机会成本
- D. 生产成本

【答案】A

【解析】生产成本可以分为显成本和隐成本两部分。其中，显成本是指企业购买或租用的生产要素所实际支付的货币支出；隐成本是指企业本身所拥有的、并且被用于该企业生产过程的那些生产要素的总价格。

95. 下列关于边际成本与平均总成本关系的表述，错误的是（ ）。

- A. 当平均总成本随产量的增加而下降时，边际成本必定小于平均总成本
- B. 当平均总成本随产量的增加而上升时，边际成本必定大于平均总成本
- C. 当边际成本与平均总成本正好相等时，平均总成本处于最低点
- D. 当边际成本与平均总成本正好相等时，平均总成本处于最高点

【答案】D

【解析】如图 1-4 所示，当边际成本与平均总成本正好相等时，平均总成本处于最低点。

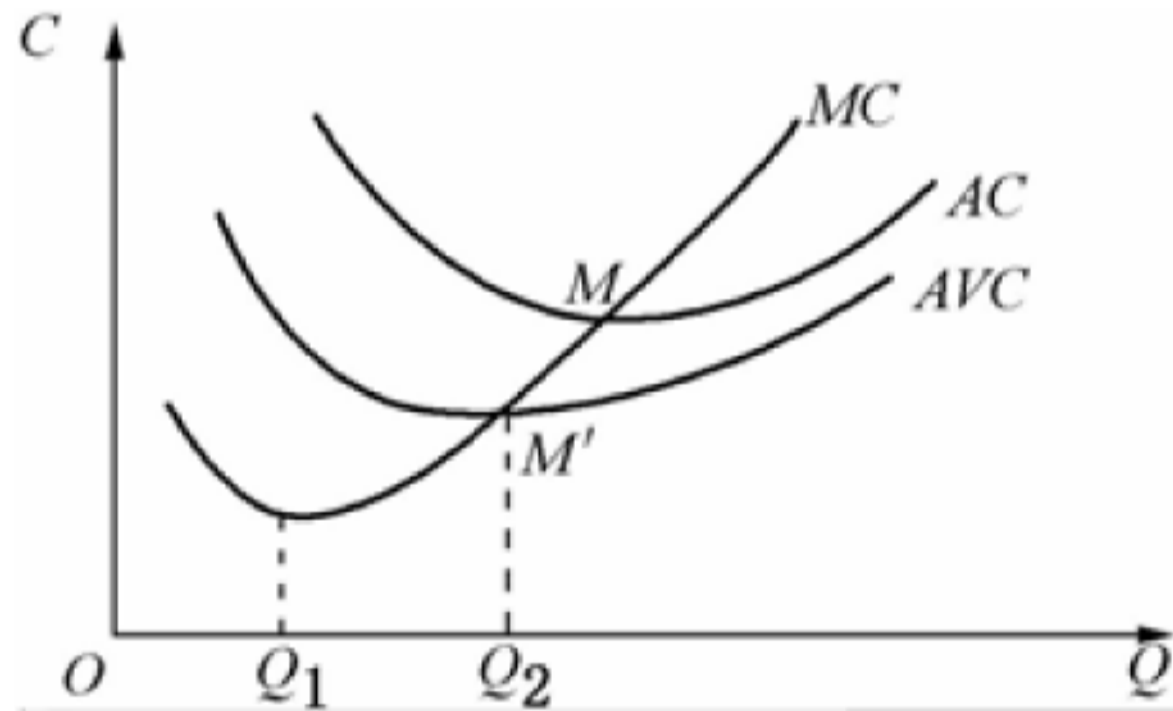


图 1-4 平均可变成本、平均总成本和边际成本位置关系

96. 寡头垄断厂商的产品是（ ）。

- A. 同质的
- B. 有差异的
- C. 既可以是同质的，也可以是有差异的
- D. 不能确定

【答案】C

【解析】寡头垄断市场是指少数几个企业控制一个行业的供给的市场结构。寡头垄断市场中，各寡头垄断厂商所生产的产品有一定的差别或者完全无差别。

97. 企业对不同的购买者所购买的每一个批量单位的产品收取不同的价格，这称做（ ）价格歧视。

- A. 一级

- B. 二级
- C. 三级
- D. 不完全

【答案】A

【解析】价格歧视一般可分为三级：①一级价格歧视，是指企业对每一单位产品都按照消费者所愿意支付的最高价格出售，也就是企业对不同的购买者所购买的每一个批量单位的产品收取不同的价格；②二级价格歧视，是指按不同价格出售不同单位产量，但每个购买相同数量的购买者支付的价格相同；③三级价格歧视，是指按不同的购买者或不同的市场规定不同的价格。

98. 火车硬座客票假期对大中专学生回家和返校的优惠票价属于（ ）价格歧视。

- A. 一级
- B. 二级
- C. 三级
- D. 完全

【答案】C

【解析】三级价格歧视是指按不同的购买者或不同的市场规定不同的价格。例如，在我国，火车硬座客票假期对大中专学生回家和返校的优惠票价就属于这类价格歧视。

99. 垄断企业可以对需求价格弹性（ ）的市场规定较高的价格，实行“少销厚利”。

- A. 较大
- B. 较小
- C. 为零
- D. 为1

【答案】B

【解析】垄断企业实行价格歧视的基本原则是，不同市场上的边际收益相等。垄断企业可以对需求价格弹性较小的市场规定较高的价格，实行“少销厚利”；而对需求价格弹性较大的市场规定较低的价格，实行“薄利多销”。

100. 下列关于完全垄断市场的表述错误的是（ ）。

- A. 在完全垄断市场上，企业的需求曲线就是市场需求曲线
- B. 在完全垄断市场上，完全垄断企业的边际收益小于平均收益
- C. 完全垄断企业进行产量和价格决策的基本原则是边际成本等于边际收益
- D. 在完全垄断市场上，产品价格的高低不受市场需求的影响

【答案】D

【解析】即使在完全垄断市场上，产品价格的高低也要受到市场需求的影响。一般来说，如果产品需求价格弹性较小，价格提高后需求量降低的幅度不大，因此企业可以制定较高的价格。相反，如果产品的需求价格弹性较大，企业制定的价格就要低一些。这就是说，完全垄断企业在价格决策时，也必须考虑到产品的市场需求状况。

101. 垄断竞争厂商短期均衡时，（ ）。

- A. 厂商一定能获得超额利润
- B. 厂商一定不能获得超额利润
- C. 只能得到正常利润
- D. 取得超额利润，发生亏损及获得正常利润三种情况都可能发生

【答案】D

【解析】在短期均衡状态下，垄断竞争厂商可能获得经济利润，也可能只获得正常利润，还可能蒙受亏损，这取决于短期均衡条件下，市场价格和平均成本的关系。垄断竞争厂商根据  $MR=MC$  的原则调整产量和价格，直到使市场供求相等和  $MR=MC$  同时实现为止。此时的价格大于平均成本，厂商获得最大利润；价格小于平均成本，厂商获得最小亏损；价格等于平均成本，厂商经济利润为零。

102. 生产者对生产要素的需求属于（ ）。



- A. 自发需求
- B. 引致需求
- C. 潜在需求
- D. 直接需求

**【答案】** B

**【解析】** 在生产要素市场上，需求者是生产者或厂商，供给者是消费者或居民，生产者对劳动、土地等生产要素的需求是从消费者对最终消费品的需求中间接派生出来的。这种对生产要素的需求称为“引致需求”或者“派生需求”。

103. 衡量增加单位要素投入所带来的产量增量的指标是（ ）。

- A. 边际收益产品
- B. 边际物质产品
- C. 边际产品价值
- D. 边际要素成本

**【答案】** B

**【解析】** 边际物质产品又称边际产量，表示增加单位要素投入所带来的产量增量。如以 MPP 代表边际物质产品， $\Delta L$  代表要素投入的增加量， $\Delta Q$  代表总产量的增加量，则有： $MPP = \Delta Q / \Delta L$ 。

104. 下列关于完全竞争生产者的要素需求曲线和供给曲线，说法正确的是（ ）。

- A. 生产者的要素需求曲线向右上方倾斜
- B. 生产者的要素需求曲线是一条水平线
- C. 生产者面临的要素供给曲线是一条水平线
- D. 生产者面临的要素供给曲线是一条垂直线

**【答案】** C

**【解析】** 对于要素需求曲线，由于完全竞争生产者在销售产品时是完全竞争的，生产者是产品价格的接受者，所以产品价格为常数 P，即生产者的边际收益和平均收益都等于产品的价格 P。所以有  $MRP = VMP = P \times MP$ ，即生产者的边际产品价值等于边际收益产品。由于 MP 曲线向下倾斜，而 P 为常数，所以  $MRP = VMP$  曲线也向下倾斜。而对于要素供给曲线，完全竞争生产者在购买要素时是完全竞争的，即生产者完全是要素市场价格的接受者。所以，生产者面临的要素供给曲线是一条水平线。

105. 已知生产要素的组合是 (20A, 30B, 40C)，产量是 500。如果生产要素的组合变成了 (20A, 31B, 40C)，产量增加到 520。由此可知（ ）。

- A. 要素 A 的边际物质产品等于 20
- B. 要素 B 的边际物质产品等于 20
- C. 要素 C 的边际物质产品等于 20
- D. 以上都不对

**【答案】** B

**【解析】** 生产要素 A 和 C 的数量保持不变，生产要素 B 增加一单位时产量增加 20，故要素 B 的边际物质产品等于 20。

106. 随着工资率的不断提高，在（ ）条件下，劳动供给曲线向后弯曲。

- A. 收入效应与替代效应是同方向变动的
- B. 收入效应与替代效应是反方向的
- C. 替代效应绝对值大于收入效应
- D. 收入效应绝对值大于替代效应

**【答案】** D

**【解析】** 随着工资率不断提高，劳动供给曲线向后弯曲，这表明工资变动的总效应为负。由于工资提高，替代效应使闲暇消费下降、劳动供给增加，收入效应使闲暇消费上升、劳动供给减少。要使总效应为负，则必然有收入效应绝对值大于替代效应。

107. 在市场经济国家, 公路、地铁、无线电视大都是由国家而不是由私人来投资的, 其合理的经济学解释是, 上述部门 ( )。

- A. 属于垄断性行业
- B. 属于公共物品的生产部门
- C. 具有负外部性的特点
- D. 关系着国计民生

**【答案】 B**

**【解析】**由于公共物品存在非竞争性和非排他性, 决定了在绝大多数的公共物品消费中必然经常出现“搭便车”现象, 所以私人不愿意提供公共物品, 而主要由国家来提供。

108. 资源配置达到帕累托最优状态的条件是 ( )。

- A. 市场处于完全竞争的状态
- B. 市场处于不完全竞争的状态
- C. 存在外部影响
- D. 信息不对称

**【答案】 A**

**【解析】**在一个经济社会中, 整个经济实现一般均衡, 并且资源配置达到帕累托最优状态模式是有条件的。这些条件包括: ①经济主体是完全理性的; ②信息是完全的; ③市场是完全竞争的; ④经济主体的行为不存在外部性等。

109. 消费者对某一种公共物品的消费并不影响其他人对该公共物品的消费, 这是指公共物品的 ( )。

- A. 竞争性
- B. 非竞争性
- C. 排他性
- D. 非排他性

**【答案】 B**

**【解析】**公共物品有非竞争性和非排他性两个特点。其中, 非竞争性是指消费者对某一种公共物品的消费并不影响其他人对该公共物品的消费; 非排他性是指公共物品可以由任何消费者进行消费, 其中任何一个消费者都不会被排斥在外。

110. 下列情况中, 属于外部不经济的是 ( )。

- A. 某公司支付费用对其雇员进行长期的技术培训后, 受训的雇员却跳槽到其他单位而不付给公司任何费用或只付给较低的费用
- B. 某企业在生产过程中, 由于排放大量的烟尘和污水, 从而造成严重的环境污染而又不为此付出任何代价或只付出很小的代价
- C. 人们对公路等公共物品无偿的或只付很少费用的使用
- D. 盗版光盘的泛滥使正版光盘的设计者和制造商无法得到与其劳动成果相应的报酬

**【答案】 B**

**【解析】**外部不经济是指某人或某企业的经济活动会给社会上其他人带来损害, 但该人或该企业却不必为这种损害进行补偿。

精准押题QQ1419505160

111. 在市场失灵的情况中, 外部影响是指 ( )。

- A. 某一有限市场以外的人为因素的影响
- B. 某一市场以外的自然因素的影响
- C. 某个人或某个企业的经济活动对其他人或其他企业造成了影响, 但却没有为此付出代价或得到收益
- D. 国家或政府的行政干预

**【答案】 C**

**【解析】**市场失灵有四种情况: 垄断、外部性、公共物品和信息不对称等。其中外部性(外部影响)是指某个人或某个企业的经济活动对其他人或其他企业造成了影响, 但却没有为此付出代价或得到收益。

112. 下列关于纯公共物品的表述错误的是（ ）。

- A. 纯公共物品是具有完全的非竞争性和完全的非排他性的物品
- B. 纯公共物品一般通过纳税间接购买而被动消费
- C. 纯公共物品在消费时无法分割，只能由政府提供
- D. 医疗卫生属于纯公共物品

【答案】D

【解析】D项，医疗卫生属于准公共物品。

113. 投保人在投保财产险后不注意防盗，保险公司无法观察到投保人行为，从而不好判断风险程度的高低从而制定合理的保费。这种情况属于市场失灵中的（ ）。

- A. 垄断
- B. 正外部性
- C. 负外部性
- D. 信息不对称

【答案】D

【解析】信息不对称是指市场上买卖双方掌握的信息量不一样的一种情况。有时卖者掌握的信息更多，如二手车卖者对自己的汽车的情况更加了解；有时买者掌握的信息更多，如保险的购买者更了解自己的状况。

114. 根据经济活动的主体不同，外部性可分为（ ）。

- A. 外部经济和外部不经济
- B. 个人外部性和集体外部性
- C. 生产的外部性和消费的外部性
- D. 个人外部性和企业外部性

【答案】C

【解析】根据经济活动的主体是生产者还是消费者，外部性可以分为生产的外部性和消费的外部性。

115. 在市场机制作用下，如果居民和企业作为市场主体分别实现了效用最大化和利润最大化，并且在此基础上，产品市场和生产要素市场既不存在过剩，也不存在短缺，这种状态称为（ ）。

- A. 帕累托最优
- B. 一般均衡状态
- C. 帕累托改进
- D. 市场最优状态

【答案】B

116. 从价值形态来看，GDP表现为所有（ ）的增加值之和。

- A. 常住单位
- B. 常住人口
- C. 常住单位和非常住单位
- D. 常住人口和非常住人口

【答案】A

【解析】国内生产总值的形态包括：①从价值形态看，它是所有常住单位在一定时期内生产的全部货物和服务价值超过同期投入的全部非固定资产货物和服务价值的差额，即所有常住单位的增加值之和；②从收入形态看，它是所有常住单位在一定时期内创造并分配给常住单位和非常住单位的初次收入之和；③从产品形态看，它是所有常住单位在一定时期内最终使用的货物和服务价值减去货物和服务进口价值。

117. （ ）表示了整个社会的储蓄（私人储蓄和政府储蓄之和）和整个社会的投资的恒等关系。

- A.  $I=S$
- B.  $I=S+(M-X)$
- C.  $I=S+(T-G)+(M-X)$
- D.  $I=S+(T-G)$

**【答案】D**

**【解析】** $I=S+(T-G)$ ，其中 $(T-G)$ 可以看作是政府部门的储蓄， $S$ 为家庭储蓄和企业储蓄之和，可以通称为私人储蓄。这样， $S+(T-G)$ 可以表示整个社会的储蓄。因此，公式 $I=S+(T-G)$ ，表示整个社会的储蓄（私人储蓄和政府储蓄之和）和整个社会的投资的恒等关系。

118. 消费函数 $(C=\alpha+\beta Y)$ ，是以（ ）的消费理论为基础的。

- A. 亚当·斯密
- B. 威廉·配弟
- C. 凯恩斯
- D. 瓦格纳

**【答案】C**

119. 持久收入理论认为消费函数是稳定的，原因在于（ ）。

- A. 在一定时期内，社会的人口构成是稳定的
- B. 人们的消费倾向呈稳定的变化
- C. 在长期中，人们的持久性收入是稳定的
- D. 在一定时期内，人们的持久性收入是稳定的

**【答案】C**

**【解析】**弗里德曼提出的持久收入理论认为，消费者的消费支出不是根据他的当前收入决定的，而是根据他的持久收入（即消费者可以预期到的长期收入）决定的。在长期中，持久性收入是稳定的，所以消费函数是稳定的。

120. 关于宏观投资，凯恩斯理论认为（ ）。

- A. 实际利率越高，投资量越大
- B. 实际利率越低，投资量越大
- C. 基准利率越低，投资量越大
- D. 基准利率越高，投资量越大

**【答案】B**

**【解析】**凯恩斯认为，实际利率越低，投资量越大。因为无论以何种方式投资，利率都是机会成本的一部分，利率越低，任何一项投资的机会成本就越低。因此利率越低，投资就越有利可图，投资水平就会提高了。

121. 当消费大于收入时，平均消费倾向（ ）。

- A. 大于1
- B. 等于1
- C. 小于1
- D. 不能确定

**【答案】A**

**【解析】**平均消费倾向（APC）是指消费总量在收入总量中所占的比例，用公式表示为： $APC=C/Y$ 。当消费大于收入时（ $C>Y$ ），平均消费倾向大于1。

122. 总需求曲线向下方倾斜的原因是（ ）。

- A. 随着价格水平的下降，居民的实际财富下降，他们将增加消费
- B. 随着价格水平的下降，居民的实际财富增加，他们将增加消费
- C. 随着价格水平的上升，居民的实际财富下降，他们将增加消费
- D. 随着价格水平的上升，居民的实际财富上升，他们将减少消费

**【答案】B**

**【解析】**当价格水平上升时，人们手中名义资产的数量不会改变，但以货币实际购买力衡量的实际资产的数量会减少，因此，人们在收入不变的情况下就会减少对商品的需求量而增加名义资产数量以维持实际资产数额不变。其结果是价格水平上升时，人们所愿意购买的商品总量减少，即减少消费；价格水平下降时，人们所愿意购买的商品总量增加，即增加消费。

123. C国去年的经济总量是5万亿元,今年是5.45万亿元,则今年的经济增长率g为( )。
- A. 45%
  - B. 22.5%
  - C. 9%
  - D. 4.5%

**【答案】**C

**【解析】** $g = (\text{本年度经济总量的增量} / \text{上年的经济总量}) \times 100\% = [(5.45 - 5) / 5] \times 100\% = 9\%$ 。

124. 经济增长率( )。
- A. 一定与人口增长成反比
  - B. 体现了一个国家的发达程度
  - C. 衡量一个国家总体经济实力增长速度的标志
  - D. 与货币供应量有关,与生产劳动者的素质无关

**【答案】**C

**【解析】**经济增长率的高低体现了一个国家或一个地区在一定时期内经济总量的增长速度,也是衡量一个国家总体经济实力增长速度的标志。

125. 下列分解符合两因素分解法的是( )。
- A. 劳动投入和资本投入
  - B. 劳动时间和资本投入时间
  - C. 劳动时间和劳动生产的增长率
  - D. 资本投入时间和劳动生产率

**【答案】**C

**【解析】**两因素分解法是指假定其他因素不变,把经济增长看作某一项生产要素(劳动或资本)与其生产率作用的结果,把经济增长率按照劳动和劳动生产率两项因素进行分解,即假定经济增长率取决于两个因素,工作小时数(劳动时间)的增加率和每小时产出的增加率(即劳动生产率的增长率)。

126. 资本的投入数量受多种因素制约,其中最重要的是( )。
- A. 生产能力的利用率
  - B. 劳动生产率
  - C. 劳动的利用率
  - D. 投资效益

**【答案】**A

**【解析】**资本的投入数量受多种因素制约,其中最重要的是资本的利用率或生产能力利用率。在生产能力一定时,生产能力利用率提高就能够增加资本的投入量;否则,就会减少资本的投入量。

127. 关于经济增长与经济发展之间的关系,下列说法正确的是( )。
- A. 经济增长与经济发展是同一概念
  - B. 经济增长过程中必然伴随着经济发展
  - C. 经济增长不等于经济发展,但经济发展过程中必然存在经济增长
  - D. 经济增长不等于经济发展,经济发展与经济增长没有关系

**【答案】**C

**【解析】**经济发展比经济增长具有更广的外延。经济发展既包括经济增长,还包括伴随经济增长过程而出现的技术进步、结构优化、制度变迁、福利改善以及人与自然之间关系的进一步和谐等方面的内容。

128. 中周期又称中波或大循环,每个周期的平均长度约为( )。
- A. 50~60年
  - B. 15~20年
  - C. 8~10年

D. 3~4 年

**【答案】C**

**【解析】**按照周期波动时间的长短,经济的周期性波动可分为三种类型,即长周期、中周期和短周期。其中,中周期又称中波或大循环,每个周期的平均长度约为8~10年左右。这是由法国的经济学家朱格拉提出来的,因此又称朱格拉周期。

129. 党的十八届五中全会通过的《中共中央关于制定国民经济和社会发展第十三个五年规划的建议》,提出了“十三五”时期经济社会发展的基本理念,不包括( )。

- A. 创新
- B. 合作
- C. 绿色
- D. 开放

**【答案】B**

**【解析】**“十三五”时期经济社会发展的基本理念是创新、协调、绿色、开放、共享。

130. 党的十九大报告提出实施乡村振兴战略,加快推进农业农村的现代化。具体来说,是( )决定了在相当长时期内,我国以家庭经营为主的小农户仍是农业生产的重要力量。

- A. 农业适度规模经营不断发展
- B. 新时代下中国特色社会主义制度
- C. 城镇化率的不断提高
- D. 人多地少、经营分散的基本国情

**【答案】D**

**【解析】**党的十九大报告提出实施乡村振兴战略,加快推进农业农村的现代化。这是充分考虑了新时代下我国农业农村特点做出的前瞻部署。具体来说:①农业适度规模经营不断发展,新型农业经营主体和服务主体大量涌现。②我国人多地少、经营分散的基本国情决定了在相当长时期内,以家庭经营为主的小农户仍是农业生产的重要力量。③改革成为下一阶段乡村振兴的动力所在。党的十九大报告明确提出,第二轮土地承包到期后再延长三十年。随着我国城镇化率的不断提高,深化农村集体产权和土地制度改革将为农业农村现代化释放出更多动力。

131. 摩擦性失业是指由于( )引起的失业。

- A. 市场信息不完全和工作变换
- B. 经济衰退和萧条导致需求不足
- C. 产业结构变动
- D. 季节变化

**【答案】A**

**【解析】**摩擦性失业是因为劳动者找到最合适自己的偏好和技能的工作需要一定的时间而引起的失业,也就是由于劳动者从一个工作转换到另一个工作的过程中出现的失业。由于产业结构调整所造成的失业是结构性失业。

132. 购买力平价理论指出,汇率实际上是由( )决定。

- A. 铸币平价
- B. 两国货币含金量之比
- C. 两国价格总水平变动之比
- D. 黄金输送点

**【答案】C**

**【解析】**购买力平价理论指出,两种货币的汇率应由两国货币购买力之比决定,而货币购买力又是价格总水平的倒数,所以,汇率实际上由两国价格总水平变动之比决定。

133. 关于发达国家失业率的计算公式,正确的是( )。

- A. 失业率 = (失业总人数/劳动力总人数) × 100%
- B. 失业率 = (失业总人数/民用劳动力总人数) × 100%

- C. 失业率 = (民用劳动力总人数/失业总人数) × 100%  
 D. 失业率 = (劳动力总人数/失业总人数) × 100%

**【答案】 B**

**【解析】**在发达国家，失业率是反映一个国家或地区劳动力资源利用状况的最重要的指标，是失业总人数与民用劳动力总人数的比率，即：失业率 = (失业总人数/民用劳动力总人数) × 100%。

134. 总需求相对不足减少劳动力派生需求所导致的失业称为 ( )。
- A. 摩擦性失业  
 B. 结构性失业  
 C. 需求不足型失业  
 D. 自愿失业

**【答案】 C**

**【解析】**失业分为自愿失业和需求不足型失业（非自愿失业），自愿失业又分为摩擦性失业和结构性失业；需求不足型失业，又称非自愿失业，或者称之为周期性失业，是指劳动者在现行工资水平下找不到工作的状况，或是指总需求相对不足减少劳动力派生需求所导致的失业。

135. 美国经济学家阿瑟·奥肯在 20 世纪 60 年代初提出，相对于自然失业率，失业率每提高 1 个百分点，GDP 就会 ( )。
- A. 上升 2 个百分点  
 B. 下降 2 个百分点  
 C. 上升 1 个百分点  
 D. 下降 1 个百分点

**【答案】 B**

**【解析】**奥肯定律是指经济增长和失业之间的一个数量相关关系，即相对于潜在的 GDP，GDP 每下降 2 个百分点，失业率就会上升 1 个百分点。或者说，相对于自然失业率，失业率每提高 1 个百分点，GDP 就会下降 2 个百分点。

136. 下列关于就业弹性的说法，不正确的是 ( )。
- A. 就业弹性是一个国家或一个地区一定时期内的劳动就业增长率与经济增长率的比值  
 B. 就业弹性的变化决定于产业结构等因素  
 C. 如果第三产业或服务业在国民经济中所占比例较大，就业弹性就较低  
 D. 就业弹性是经济增长每变化一个百分点所对应的就业数量变化的百分比

**【答案】 C**

**【解析】**就业弹性的变化决定于产业结构等因素。一般来说，如果第三产业或服务业在国民经济中所占比例较大，就业弹性就较高。这是因为，在我国第三产业属于劳动密集型产业，生产单位产品需要投入的劳动力较多。

137. 根据统计部门数据，2014 年我国城镇就业人员为 39310 万人（不含港澳台地区就业数据），2013 年城镇就业人员为 38240 万人，2014 年全年国内生产总值 636463 亿元，2013 年为 592610 亿元。则 2014 年我国城镇就业弹性系数约为 ( )。
- A. 24%  
 B. 38%  
 C. 40%  
 D. 42%

**【答案】 B**

**【解析】**如果用  $E_e$  表示就业弹性系数，Y 表示经济增长速度，E 表示就业增长速度，则就业弹性系数可表示为： $E_e = E/Y$ 。本题中，2014 年我国城镇就业弹性系数 =  $[(39310 - 38240) / 38240] \div [(636463 - 592610) / 592610] = 38\%$ 。

138. 长期菲利普斯曲线说明 ( )。
- A. 政府需求管理政策无效

- B. 政府需求管理政策只在一定范围内有效
- C. 政府需求管理政策效果很明显
- D. 经济主体存在货币幻觉

【答案】A

【解析】长期菲利普斯曲线是一条垂直直线，它否认了短期存在的失业和通货膨胀之间的替代关系：政府增加总需求，提高了通货膨胀，而不一定降低失业率；政府压缩需求，提高了失业率，而不一定降低通货膨胀。所以，政府的需求管理政策无效。

139. 如果一国货币汇率上升，即对外升值，就可能会导致（ ）。
- A. 本国旅游收入增加
  - B. 本国旅游收入不变
  - C. 本国出口增加
  - D. 本国进口增加

【答案】D

【解析】一国货币汇率上升即货币升值，一方面，以本币标示的进口商品价格就会下跌，本国居民对进口商品的需求就会增加，进口贸易额也会增加；另一方面，外币兑换本币的数量就会减少，这也意味着外币购买力的降低和本国商品、劳务价格的上升，从而导致出口商品价格上升，出口量降低。同时，这也会导致一国旅游收入及其他劳务收入减少。

140. 歧视性政府采购是（ ）。
- A. 一国不购买国外产品
  - B. 一国政府拒绝给予国外供应商政府政府采购订单的措施
  - C. 一国政府给予国内供应商优先获得政府政府采购订单的措施
  - D. 一国政府给予国内某些供应商优先获取政府政府采购订单的措施

【答案】C

【解析】歧视性政府采购是指一国政府根据本国有关法律制度，给予国内的供应商优先获得政府政府采购订单的措施，这种政策是对外国供应商的一种歧视。

141. 比较优势理论的观点是（ ）。
- A. 各国在生产技术上的绝对差异导致在劳动生产率和生产成本上的绝对差异，是国际贸易和国际分工的基础
  - B. 如果每个国家都出口本国具有比较优势的产品，则两国都可以从国际贸易中受益
  - C. 国际贸易的基础是生产资源配置或要素储备比例上的差别
  - D. 大规模的生产可以降低单位产品的生产成本

【答案】B

【解析】ACD 三项分别是绝对优势理论、赫克歇尔-俄林理论和规模经济贸易理论的观点。

142. 一国货币汇率下跌，即货币贬值，则会导致（ ）。
- A. 进口贸易缩减
  - B. 以本币标示的进口商品价格就会下跌
  - C. 本国居民对进口商品的需求增大
  - D. 扩大进口贸易

【答案】A

【解析】汇率水平不仅对出口贸易产生重要影响，也是影响一国进口贸易的重要因素。如果汇率下跌，货币贬值，单位货币可购买商品减少则会导致进口贸易的缩减。

143. 大卫·李嘉图认为决定国际贸易的因素是（ ）。
- A. 要素储备比例
  - B. 生产资源配置比例
  - C. 两个国家产品的相对生产成本



D. 两个国家产品的绝对生产成本

**【答案】** C

**【解析】** 大卫·李嘉图在 19 世纪初提出了比较优势理论。他认为，决定国际贸易的因素是两个国家产品的相对生产成本，而不是生产这些产品的绝对生产成本。只要两国之间存在生产成本上的差异，即使其中一方处于完全的劣势地位，国际贸易仍会发生，而且贸易会使双方获得收益。

144. 比较优势理论是建立在（ ）基础之上的。

- A. 生产要素禀赋的差别
- B. 单个生产要素生产效率的国别比较
- C. 许多产品的生产都有规模报酬递增的特点
- D. 参与贸易的各个国家都有一个处于绝对优势的生产部门

**【答案】** B

**【解析】** A 项是要素禀赋理论的基础；C 项是规模经济贸易理论的基础；D 项是绝对优势理论的基础。

145. 传统的国际贸易理论假设（ ）。

- A. 各国生产的产品都是同质的，国际市场是完全竞争的
- B. 各国生产的产品是有区别的，但国际市场是完全竞争的
- C. 各国生产的产品都是同质的，国际市场是不完全竞争的
- D. 各国生产的产品是有区别的，国际市场是不完全竞争的

**【答案】** A

146. 各国征收反倾销税的目的是（ ）。

- A. 防止本国商品不顾成本到国外市场竞销
- B. 防止外国商品在本国市场高价销售
- C. 抵制外国商品在本国市场低价销售
- D. 防止本国商品低价倾销

**【答案】** C

**【解析】** 反倾销税是对于实行商品倾销的进口商品所征收的一种进口附加税，其目的在于抵制商品倾销，保护本国的市场与工业。

## 二、多项选择题

（每题的备选项中，有 2 个或 2 个以上符合题意，至少有 1 个错项）

1. 影响需求变动的主要因素有（ ）。[2017 年真题]

- A. 生产技术
- B. 消费者偏好
- C. 替代品的价格
- D. 生产成本
- E. 互补品的价格

**【答案】** BCE

精准押题QQ: 1419505160

**【解析】** 影响需求变动的主要因素有：①消费者偏好；②消费者的个人收入；③产品价格；④替代品的价格；⑤互补品的价格；⑥预期；⑦其他因素，如商品的品种、质量、广告宣传、地理位置、季节、国家政策等。AD 两项属于影响供给变动的因素。

2. 关于对某些产品实行最高限价的说法，正确的有（ ）。[2018 年真题]

- A. 最高限价可能会导致变相涨价现象
- B. 最高限价可能会导致市场过剩现象
- C. 最高限价只宜在短期内实施
- D. 最高限价总是高于均衡价格

E. 最高限价可能会导致市场短缺现象

【答案】ACE

【解析】最高限价，是指由政府为某种产品规定一个具体的价格，市场交易只能在这一价格之下进行。其目标是保护消费者利益或降低某些生产者的生产成本。

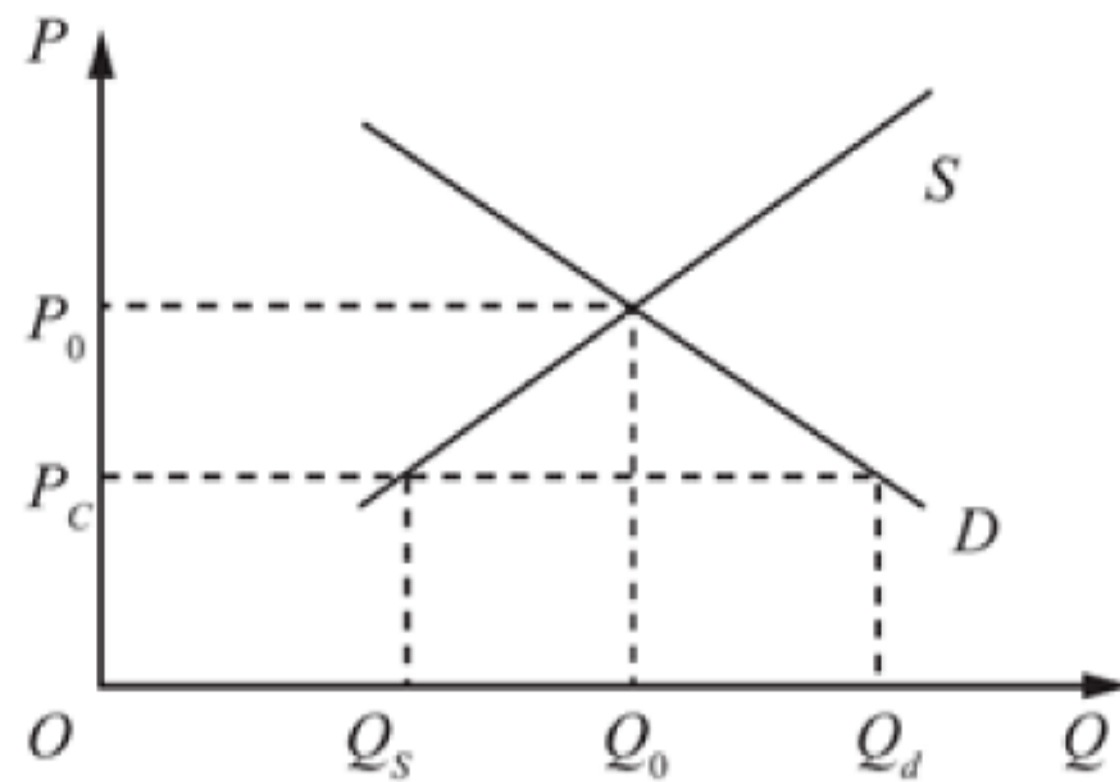


图 1-5 最高限价

在图 1-5 中， $P_0$  为均衡价格， $P_c$  为最高限价， $Q_s$  为最高限价下的市场供给量， $Q_d$  为最高限价下的市场需求量， $Q_0$  为均衡产量。从图中可以看到，由于最高限价低于均衡价格，因此，会刺激消费，限制生产，导致供给减少和需求增加，结果就是市场供给短缺，并且短缺量  $= Q_d - Q_s$ 。一般情况下，当实施最高限价，出现短缺现象时，就会出现严重的排队现象。当政府监管不力时，就会出现黑市交易和黑市高价。

3. 能够导致某种商品的需求曲线发生位移的因素包括 ( )。[2015、2012、2010 年真题]

- A. 该商品自身的价格
- B. 消费者偏好
- C. 消费者收入
- D. 价格弹性
- E. 生产成本

【答案】BC

【解析】需求变动是指假定价格不变，由于消费者收入或消费者偏好等因素的变化引起需求的相应变化，这种变化表现为需求曲线的位移。AD 两项会导致商品需求量的变动；E 项会导致供给曲线发生位移。

4. 下列关于政府实施最低保护价格的说法中，正确的有 ( )。[2014 年真题]

- A. 保护价格总是高于均衡价格
- B. 保护价格总是低于均衡价格
- C. 实施保护价格有可能导致市场过剩
- D. 实施保护价格有可能导致配给制
- E. 保护价格的顺利实施需要政府建立收购和储备系统

【答案】ACE

【解析】运用均衡价格模型可以比较具体地对保护价格的效应进行分析，如图 1-6 所示。

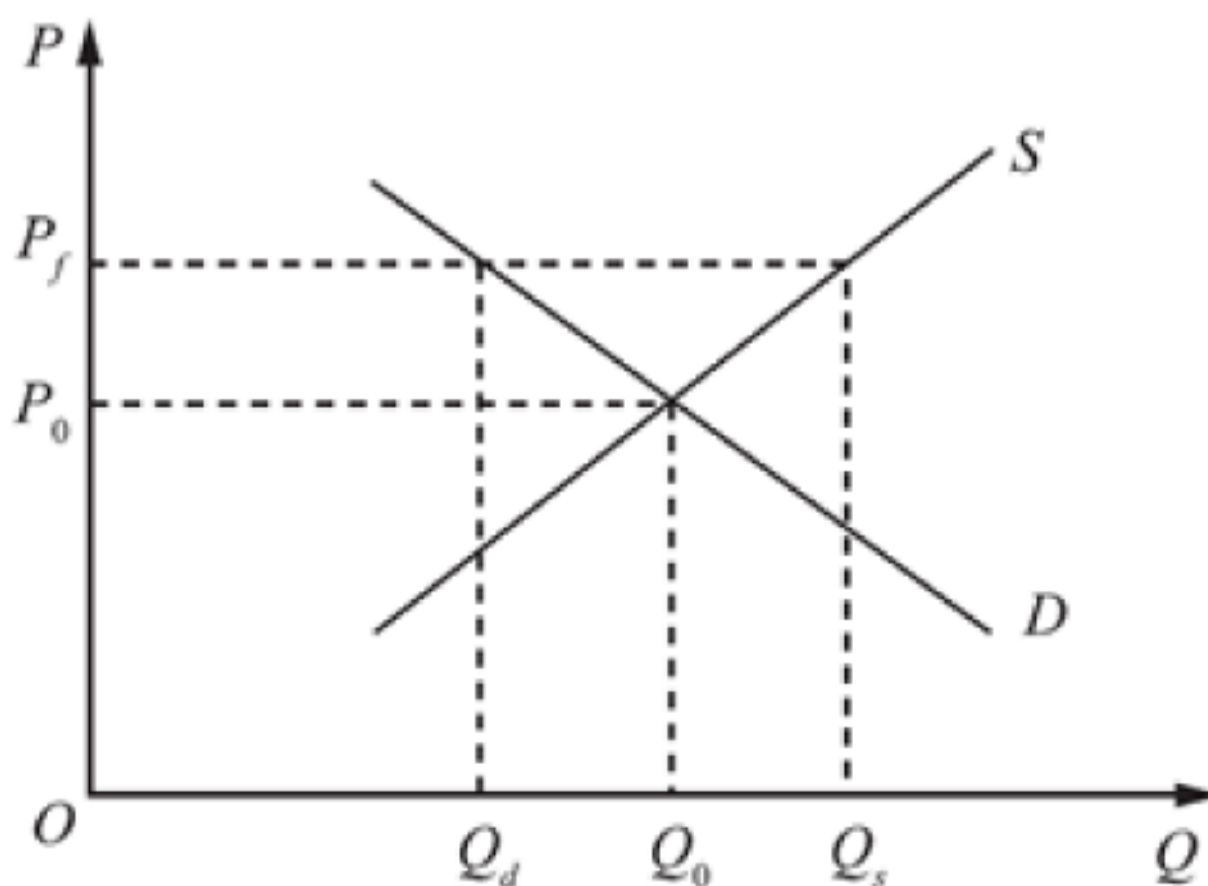


图 1-6 保护价格

在图中， $P_0$  为均衡价格， $P_f$  为保护价格， $Q_s$  为保护价格下的市场供给量， $Q_d$  为保护价格下的市场需求量， $Q_0$  为均衡产量。从图中可以看到，由于保护价格高于均衡价格，因此，会刺激生产，限制消费，导致市场供给过剩，并且过剩量  $= Q_s - Q_d$ 。

一般来说，当实施保护价格政策，出现过剩现象时，如果没有政府的收购，就会出现变相降价或黑市交易等问题，并可能导致市场价格的下降。因此，要保证保护价格的顺利实施，除了要有强有力的行政措施，还必须建立政府的收购和储备系统。

5. 在一般情况下，政府实施最高限价可能产生的结果或问题有（ ）。[2009 年真题]

- A. 供给短缺
- B. 生产者变相涨价
- C. 黑市交易
- D. 生产者变相降价
- E. 过度生产

【答案】ABC

【解析】最高限价是指由政府为某种产品规定一个具体的价格，市场交易只能在这一价格之下进行，其目标是保护消费者利益或降低某些生产者的生产成本。实施最高限价政策，会出现商品短缺现象，这会引起严重的排队现象。当政府监管不力时，还会出现黑市交易和黑市高价，导致变相涨价等现象。

6. 通常情况下，影响某种商品的供给价格弹性大小的因素有（ ）。[2012 年真题]

- A. 该种商品替代品数量和相近程度
- B. 该种商品的重要性
- C. 该种商品的用途
- D. 该种商品的生产自然条件状况
- E. 该种商品的生产周期

【答案】DE

【解析】影响供给价格弹性的因素主要有：①时间（决定供给弹性的首要因素）；②生产周期和自然条件；③投入品替代性大小和相似程度。ABC 三项是影响需求价格弹性大小的因素。

7. 商品价格变动会产生的效应包括（ ）。[2017 年真题]

- A. 互补效应
- B. 挤出效应
- C. 替代效应
- D. 收入效应
- E. 核算效应

【答案】CD

【解析】商品价格的变化会产生两种效应，即收入效应和替代效应。收入效应是指在名义收入不变时，因为该商品价格的变化，而导致消费者实际收入发生变化，进而导致消费者所购买的该商品数量的变化。替代效应是指在实际收入不变的情况下，因为该商品价格的变化引起的相对价格变化所导致的该商品需求数量的变化。

8. 关于无差异曲线的说法，正确的是（ ）。[2018 年真题]

- A. 无差异曲线向右下方倾斜并凸向原点
- B. 离原点越远的无差异曲线，消费者偏好程度越高
- C. 无差异曲线的理论基础是基数效用论
- D. 无差异曲线可以反应消费者的预期
- E. 用无差异曲线可以描述消费者的偏好状况

【答案】ABE

【解析】C 项，基数效用理论是运用边际效用论分析的，而序数效用理论是用无差异曲线和预算约束线来分析的。D 项，无差异曲线用来描述消费者偏好，是一条表示能够给消费者带来相同满足程度的两种商品的所有组合的曲线，在这条曲线上的所有各点的两种商品组合带给消费者的满足程度是完全相同的，消费者对这条曲线上各个点的偏好程度是无差异的。

9. 在给定的预算线坐标图上, 决定预算线变动的因素有 ( )。[2010 年真题]
- A. 商品的相对价格
  - B. 消费者偏好
  - C. 价格弹性
  - D. 商品边际替代率
  - E. 消费者收入

【答案】AE

【解析】预算线是在消费者的收入和商品的价格给定的条件下, 消费者全部收入所能购买到的两种商品的各种组合。用公式表示:  $P_1X + P_2Y = M$ ,  $P_1$ 、 $P_2$ 、 $M$  分别是两种商品 X、Y 的价格和消费者的收入。所以当消费者的收入不变, 相对价格变化时, 预算线会发生转动; 当相对价格不变, 收入变化时, 预算线会发生平行移动。

10. 关于无差异曲线特征的说法, 正确的有 ( )。[2011 年真题]
- A. 离原点越远的无差异曲线, 消费者的偏好程度越高
  - B. 任意两条无差异曲线都不能相交
  - C. 无差异曲线是凸向原点的
  - D. 无差异曲线从左下向右上倾斜
  - E. 无差异曲线斜率为负

【答案】ABCE

【解析】无差异曲线具有如下特征: ①离原点越远的无差异曲线, 消费者的偏好程度越高; ②任意两条无差异曲线都不能相交; ③无差异曲线从左上向右下倾斜, 凸向原点, 斜率为负。

11. 需求曲线之所以向右下方倾斜, 是因为价格的变化具有 ( ) 效应。[2009 年真题]
- A. 收入
  - B. 替代
  - C. 递减
  - D. 规模经济
  - E. 导向

【答案】AB

【解析】商品价格变化会产生两种效应, 即收入效应和替代效应。对于正常商品而言, 替代效应和收入效应都和价格反向变动, 从而总效应与价格反向变动, 因此, 正常商品的需求曲线是向右下方倾斜的。对低档品而言, 替代效应与价格反向变动, 收入效应与价格同向变动, 大多数情况下, 收入效应的作用小于替代效应的作用, 从而总效应与价格反向变动, 因此, 低档品的需求曲线也是向右下方倾斜的。

12. 美国经济学家科斯提出的企业理论的主要观点有 ( )。[2016 年真题]
- A. 企业是为了节约市场交易费用而产生的
  - B. 企业的本质是作为市场机制或价格机制的替代物
  - C. 信息不完全性是导致市场机制和企业交易费用不同的主要因素
  - D. 企业可以使一部分市场交易内部化, 从而降低交易费用
  - E. 不同市场结构中的企业的本质是不同的

【答案】ABCD

【解析】美国经济学家科斯在 1937 年发表的《企业的本质》一文, 对企业本质属性问题进行了开创性的探讨, 他认为企业是为了节约市场交易费用或交易成本而产生的, 企业的本质或者显著特征是作为市场机制或价格机制的替代物。导致市场机制和企业的交易费用不同的主要因素在于信息的不完全性。通过企业这种组织形式, 可以使一部分市场交易内部化, 从而消除或降低一部分交易费用。

13. 关于经济学中成本的说法, 正确的有 ( )。[2016 年真题]
- A. 生产成本可分为显成本和隐成本两部分
  - B. 隐成本实际是一种机会成本
  - C. 正常利润不应作为隐成本的一部分计入成本

- D. 成本是企业生产经营过程中所支付的物质费用和人工费用
- E. 不论从长期还是短期看, 成本均可分为固定成本和可变成本

**【答案】** ABD

**【解析】** C项, 正常利润是生产成本的一部分, 是作为隐成本的一部分计入成本的。E项, 由于考察的时期不同, 成本函数分为短期成本函数和长期成本函数。短期成本函数有固定成本和可变成本之分, 长期成本函数只有可变成本。

14. 关于科斯的企业形成理论的说法, 正确的有 ( )。[2013年真题]
- A. 企业与市场机制是两种不同的协调生产和配置资源的方式
  - B. 企业作为生产的一种组织形式大大减少了需要签订的契约数量
  - C. 企业的产生增加了市场交易费用
  - D. 企业不以营利为目的
  - E. 导致市场机制和企业交易费用不同的主要因素在于信息的不完全性

**【答案】** ABE

**【解析】** A项, 从历史上看, 从企业产生以后, 企业与市场机制就是两种不同的协调生产和配置资源的方式, 同时社会上就形成了两种交易, 即企业外部的市场交易和企业内部的交易; B项, 企业作为生产的一种组织形式, 在一定程度上是对市场机制的一种替代, 而企业作为一种组织形式大大减少了需要签订的契约数量, 可以大量节约交易费用; C项, 企业是为了节约市场交易费用或交易成本而产生的; D项, 企业是以营利为目的的; E项, 导致市场机制和企业的交易费用不同的主要因素在于信息的不完全性。

15. 关于短期成本曲线的说法, 正确的有 ( )。[2009、2010年真题]
- A. 总成本曲线从原点开始, 并随产量的增加而逐步上升
  - B. 总成本曲线从纵轴一个截点即产量为零时总成本等于固定成本的那个点开始, 并随产量的增加而逐步上升
  - C. 总可变成本曲线从原点开始, 并随产量的增加而逐步上升
  - D. 总可变成本曲线从纵轴一个截点即产量为零时总成本等于固定成本的那个点开始
  - E. 总固定成本曲线是平行于横轴的一条直线

**【答案】** BCE

16. 从短期来看, 属于企业固定成本的项目有 ( )。[2012年真题]
- A. 原材料费用
  - B. 厂房折旧
  - C. 生产工人工资
  - D. 管理人员工资
  - E. 设备折旧

**【答案】** BDE

**【解析】** 固定成本是指在短期内不随产量增减而变动的那部分成本, 其中主要包括厂房和设备的折旧, 以及管理人员的工资费用等。AC两项属于可变成本。

17. 完全竞争市场的特征有 ( )。[2017、2014年真题]
- A. 同一行业有众多生产者和消费者
  - B. 每个生产者或消费者都是价格的决定者
  - C. 买卖双方对市场信息有充分的了解
  - D. 进入或退出行业存在较大的障碍
  - E. 同行业各个企业生产的同一产品不存在差别

**【答案】** ACE

**【解析】** 完全竞争市场具有的特征有: ①市场上有很多生产者与消费者, 或买者和卖者, 且生产者的规模都很小。每个生产者和消费者都只能是市场价格的接受者, 而不是价格的决定者。②企业生产的产品是同质的, 即不存在产品差别。③资源可以自由流动, 企业可以自由进入或退出市场。④买卖双方对市场信息都有充分的了解。

18. 完全垄断市场的特征有 ( )。[2015 年真题]

- A. 整个行业内有很多的生产者和消费者
- B. 企业生产的产品具有差别性
- C. 少数几个企业控制一个行业的供给
- D. 整个行业内只有一个生产者
- E. 其他企业进入这一市场非常困难

【答案】DE

【解析】完全垄断市场具有的特征：①只有一个生产者，因而生产者是价格的决定者，而不是价格的接受者；②完全垄断者的产品是没有合适替代品的独特性产品；③其他企业进入这一市场非常困难。A 项是完全竞争市场或垄断竞争市场特征；B 项是垄断竞争市场特征；C 项是寡头垄断市场特征。

19. 关于实行价格歧视基本条件的说法，正确的有 ( )。[2014 年真题]

- A. 市场上存在收入水平不同的购买者
- B. 能根据不同的需求价格弹性划分出两组或两组以上不同的购买者
- C. 市场必须能够有效地分隔开
- D. 消费者在市场上选择商品不受限制
- E. 同一产品不能在不同市场之间流动

【答案】BCE

【解析】实行价格歧视的基本条件包括：①必须有可能根据不同的需求价格弹性划分出两组或两组以上的不同购买者；②市场必须是能够有效的隔离开，同一产品不能在不同市场之间流动，即不能使购买者在低价市场上买到产品再卖到高价市场上去。

20. 关于垄断竞争市场的说法，正确的有 ( )。[2009 年真题]

- A. 企业的需求曲线就是行业的需求曲线
- B. 不同企业生产的产品存在差别
- C. 企业不是完全的价格接受者
- D. 进入或退出市场比较容易
- E. 具有很多的生产者

【答案】BCDE

【解析】垄断竞争市场的主要特征：①具有很多的生产者和消费者；②产品具有差异性，生产者不再是完全的价格接受者；③进入或退出市场比较容易，障碍较小。A 项，对于垄断竞争企业而言，因为行业中还存在其他生产者，所以需求曲线不是行业的需求曲线，而是每一个具体企业的需求曲线。完全垄断企业的需求曲线就是行业的需求曲线。

21. 关于生产要素市场理论的说法，正确的有 ( )。[2015 年真题]

- A. 工资增加的替代效应表现为劳动供给增加
- B. 各种生产要素的供给曲线都是后弯曲线
- C. 生产者对生产要素的需求是联合需求
- D. 完全竞争生产者的要素供给曲线为水平线
- E. 完全竞争生产者的要素需求曲线是向右下方倾斜的

【答案】ACDE

精准押题加QQ: 1419505160

【解析】A 项，工资增加的替代效应，是指由于工资上升，收入增加，消费者用劳动替代闲暇，劳动供给增加。C 项，生产者对生产要素的需求是联合需求，即对生产要素的需求具有相互依赖性，各种生产要素要共同发挥作用才能生产最终产品。D 项，完全竞争生产者在购买要素时是要素市场价格的接受者，面临的要素供给曲线是一条水平线。E 项，完全竞争生产者在销售产品时，是产品价格的接受者，所以产品价格为常数  $P$ ，即边际收益和平均收益都等于  $P$ 。所以有  $MRP = VMP = P \times MP$ ，即生产者的边际产品价值等于边际收益产品。由于  $MP$  曲线向下倾斜，而  $P$  为常数，所以  $MRP = VMP$  曲线也向右下方倾斜。B 项，经济学分析的要素包括劳动、资本、土地和企业家才能，并不是所有的生产要素的供给曲线都是后弯曲线。比如，由于土地的数量一般不会变化，所以土地的供给曲线是一条垂直线。

22. 关于生产要素供给曲线的说法, 正确的有 ( )。[2017、2015 年真题]

- A. 资本的供给在短期内是一条后弯曲线, 在长期内是一条垂直线
- B. 各种生产要素的供给曲线是相同的
- C. 劳动供给曲线是一条后弯曲线
- D. 土地的供给曲线是一条垂直线
- E. 资本的供给在短期内是一条垂直线, 在长期内是一条后弯曲线

【答案】CDE

【解析】AE 两项, 资本的供给在短期内是垂直线, 而在长期内是一条后弯曲线。B 项, 各种生产要素的供给曲线不一定相同。C 项, 当工资低而收入少时, 劳动的供给曲线向上倾斜。当工资提高到一定程度时, 消费者相对比较富有, 工资增加的替代效应小于收入效应, 劳动供给减少, 劳动供给曲线向后弯曲。D 项, 由于土地的数量一般不会变化, 所以土地的供给曲线是一条垂直线。

23. 关于经济学家科斯提出的产权和外部性理论的说法, 正确的有 ( )。[2018 年真题]

- A. 不同的产权制度会导致不同的资源配置效率
- B. 一旦考虑到交易成本, 产权的初始界定对于经济运行的效率就会产生十分重要的作用
- C. 只要产权是明确的, 并且交易成本为零或者很小, 市场均衡的最终结果都是有效率的
- D. 很多外部性的产生都是由于产权不清晰导致的
- E. 明确和界定产权是解决外部性问题的唯一途径

【答案】ABCD

【解析】E 项, 科斯定理提供了一种通过市场机制解决外部性问题的一种新的思路和方法, 但并不是唯一途径。消除外部性还有传统方法, 包括使用税收和补贴、将相关企业合并从而使外部性内部化等手段。

24. 关于公共物品的说法, 正确的有 ( )。[2017 年真题]

- A. 公共物品的存在是导致市场失灵的原因之一
- B. 准公共物品可以由非政府部门提供
- C. 确定公共物品的最优数量具有非常重要的现实意义
- D. 公共物品可以分为纯公共物品和准公共物品两类
- E. 纯公共物品一般通过税收间接购买

【答案】ABDE

【解析】确定公共物品的最优数量并没有什么实际意义。因为消费者并不清楚自己对公共物品的需求价格, 更不可能准确说明他对公共物品的需求与价格之间的关系。并且, 由于公共物品存在非竞争性和非排他性, 消费者更愿意搭便车, 低报或者隐瞒自己对公共物品的偏好。所以无法知道每个消费者的需求曲线, 消费者表明的需求曲线一般低于其实际水平。因此无法加总消费者的需求曲线, 也不能求得公共物品的最优数量。

25. 关于信息不对称和市场失灵的说法, 正确的是 ( )。[2015 年真题]

- A. 信息不对称会导致道德风险
- B. 信息不对称会导致某些商品或者服务市场出现萎缩甚至消失
- C. 通过税收和补贴手段, 可以解决信息不对称导致的市场失灵
- D. 政府可以制定有关商品说明、质量标准和广告等的法律法规, 以克服信息不对称所导致的市场失灵
- E. 通过明晰产权可以克服信息不对称所引起的市场失灵

【答案】ABD

【解析】导致市场失灵的原因主要有垄断、外部性、公共物品和信息不对称等。C 项, 税收和补贴是消除外部性的传统方法; E 项, 明确和界定产权是消除外部性的重要途径。

26. 消除外部性的传统方法包括 ( )。[2014 年真题]

- A. 明确产权归属
- B. 政府对那些产生外部不经济的企业征收适量的排污税
- C. 政府对那些具有外部经济的企业给予财政补贴
- D. 减少交易费用
- E. 通过合并相关企业使外部性得以“内部化”

**【答案】** BCE

**【解析】** 消除外部性的传统方法，包括使用税收和补贴、将相关企业合并从而使外部性内部化等手段。A项也属于消除外部性的方法，但它是随着产权理论的出现和发展而产生的，不属于传统方法。

27. 公共物品的特点主要包括（ ）。[2013年真题]

- A. 消费的不可储存性
- B. 非竞争性
- C. 非排他性
- D. 必须直接购买
- E. 不存在搭便车问题

**【答案】** BC

**【解析】** 公共物品具有两大特征：①非竞争性，是指某种公共物品一旦被提供，增加一个人的消费并不增加任何额外成本，即增加一个人消费的边际供给成本为零，这一特征强调了集体提供公共物品的潜在收益。②非排他性，是指一种公共物品一旦被提供出来，要排除一个额外的消费者在技术上不可行，或者尽管技术上排他是可行的，但这样做的成本过高。这一特征指出了通过市场机制提供公共物品的潜在困难。

28. 关于公共物品的说法，正确的有（ ）。[2016、2010年真题]

- A. 公共物品的消费容易产生“搭便车”现象
- B. 公共物品的市场需求曲线是所有消费者需求曲线的纵向加总
- C. 准公共物品具有一定程度的拥挤性
- D. 公共物品的市场需求曲线是所有消费者需求曲线的水平方向加总
- E. 纯公共物品只能由政府提供

**【答案】** ABCE

**【解析】** D项，公共物品的市场需求曲线是所有消费者需求曲线的垂直方向加总。

29. 关于总供给的说法，正确的有（ ）。[2016年真题]

- A. 政府购买是影响总供给的重要因素
- B. 总供给的变动主要取决于企业的利润水平
- C. 企业预期是影响总供给的重要因素
- D. 总供给曲线向右下方倾斜
- E. 长期总供给曲线是一条与横轴（总产出）相交的垂直线

**【答案】** BCE

**【解析】** 总供给的变动主要取决于企业的利润水平，而利润水平又决定于市场价格与生产成本，因而，决定总供给的基本因素就是价格与成本。除了这两个基本因素，企业的预期也是一个重要因素。如果企业对未来利润的预期是下降的，企业就会减少生产，从而使总供给减少。长期总供给曲线 LRAS 是一条与横轴 Y 相交的垂直线。从短期来看，总供给曲线一般应是一条向右上方倾斜的曲线。

30. 下列经济因素中，对长期总供给有决定性影响的有（ ）。[2013年真题]

- A. 政府购买
- B. 劳动
- C. 价格总水平
- D. 资本
- E. 技术

**【答案】** BDE

**【解析】** 从长期看，总供给变动与价格总水平无关，长期总供给只取决于劳动、资本与技术，以及经济体制等因素。

31. 凯恩斯消费理论的主要假设有（ ）。[2009年真题]

- A. 边际消费倾向递减
- B. 收入是决定消费的最重要的因素



- C. 平均消费倾向会随着收入的增加而减少
- D. 消费取决于家庭所处的生命周期阶段
- E. 长期消费函数是稳定的

【答案】ABC

【解析】凯恩斯消费理论的三个假设是：①边际消费倾向递减规律；②收入是决定消费的最重要的因素；③平均消费倾向会随着收入的增加而减少。D项是莫迪利安尼生命周期理论的假设；E项是弗里德曼持久收入理论的假设。

32. 在当前和今后的一个时期，推进供给侧改革的主要任务有（ ）。[2016年真题]

- A. 降成本
- B. 去产能
- C. 去库存
- D. 加杠杆
- E. 补短板

【答案】ABCE

【解析】在当前和今后一个时期，推进供给侧结构性改革的主要任务包括去产能、去库存、去杠杆、降成本、补短板等五大任务。

33. 关于中国经济发展新常态的说法，正确的是（ ）。[2015年真题]

- A. 经济增长从高速增长转向中高速增长
- B. 经济发展方式从规模速度型粗放增长转向质量效率型集约增长
- C. 经济发展动力从要素投资驱动转向创新驱动
- D. 货币政策从宽松转向紧缩
- E. 财政政策从积极转向稳健

【答案】ABC

【解析】中国经济新常态的三大特征是：从高速增长转向中高速增长，从规模速度型粗放增长转向质量效率型集约增长，从要素投资驱动转向创新驱动。

34. 我国当前加快转变经济发展方式的主要内容有（ ）。[2014年真题]

- A. 促进经济增长由主要依靠进口能源转向主要依靠国内能源供应
- B. 促进经济增长由主要依靠投资、出口拉动转向依靠消费、投资、出口协调拉动
- C. 促进经济增长由主要依靠第二产业带动转向依靠第一、第二、第三产业协同带动
- D. 促进经济增长由主要依靠扩大出口转向主要依靠刺激房地产业
- E. 促进经济增长由主要依靠增加物质资源消耗和能源消耗转向主要依靠科技进步、劳动者素质提高、管理创新

【答案】BCE

【解析】转变经济发展方式的具体内容是促进“三个转变”：①促进经济增长主要依靠投资、出口拉动向依靠消费、投资、出口协调拉动转变；②促进经济增长由主要依靠第二产业带动向依靠第一、第二、第三产业协同带动转变；③促进经济增长由主要依靠增加物质资源消耗和能源消耗向主要依靠科学进步、劳动者素质提高、管理创新转变。

精准押题QQ1419505160

35. 按照西方古典经济学的观点，自愿失业的类型主要包括（ ）。[2018、2012年真题]

- A. 转轨型失业
- B. 开放型失业
- C. 结构性失业
- D. 周期性失业
- E. 摩擦性失业

【答案】CE

【解析】自愿失业的类型包括：①摩擦性失业，是因为劳动者找到最适合自己的偏好和技能的工作需要一定的时间而引起的失业；②结构性失业，是由于产业结构调整所造成的失业。

36. 关于菲利普斯曲线的说法, 正确的有 ( )。[2017 年真题]

- A. 菲利普斯曲线适用于任何国家, 都具有相同数量关系
- B. 菲利普斯曲线在短期和长期都具有相同的意义
- C. 简单的菲利普斯曲线是一条描述通货膨胀率与失业率之间相互关系的曲线
- D. 按照经济学家弗里德曼的观点, 菲利普斯曲线从长期来看是不存在的
- E. 从长期看, 菲利普斯曲线是一条和横轴平行的直线

【答案】CD

【解析】弗里德曼认为, 工人和企业感兴趣的是实际工资而不是名义工资, 在劳资双方工资谈判时, 工人会把通货膨胀预期考虑进去。这就意味着, 对某一个水平的失业率, 可以对应多个水平的通货膨胀率。按照这种观点, 通货膨胀和失业之间的所谓替代关系只在短期内才是可能的, 而在长期内则是不存在的。从长期看, 菲利普斯曲线是一条和横轴垂直的直线。

37. 关于价格总水平变动的经济效应的说法, 正确的有 ( )。[2016 年真题]

- A. 实际利率是在货币购买力上升时的利率
- B. 在价格总水平上涨过程中, 如果名义工资不提高或提高幅度低于价格上升幅度, 实际工资就会下降
- C. 在名义利率不变时, 实际利率与价格总水平呈反向变动
- D. 价格总水平的变动会在一定条件下影响汇率的变动
- E. 任何通货膨胀都有利于促进经济增长

【答案】BCD

【解析】A 项, 实际利率是扣除了价格总水平变动影响因素的利率, 也可以就是在货币购买力不变时的利率。E 项, 通货膨胀在一定程度上可能有利于促进经济增长, 但并非所有的通货膨胀都有利于促进经济增长。一般来说, 价格总水平变动, 特别是剧烈的、大幅度的变化不利于经济增长。

38. 关于就业和失业的说法, 正确的有 ( )。[2015 年真题]

- A. 失业是指有劳动能力并愿意就业但在目前没有从事有报酬或收入的工作的现象
- B. 努力扩大就业减少失业, 是提高人民生活水平的重要途径
- C. 促进经济增长是增加就业的主要途径
- D. 如果第三产业在 GDP 中所占比例较大, 则就业弹性较高
- E. 解决自愿失业是宏观经济调控的重点

【答案】ABCD

【解析】E 项, 解决非自愿失业是宏观经济调控的重点。按照凯恩斯的观点, 非自愿失业, 是指劳动者在现行工资水平下找不到工作的状况, 或是指总需求相对不足减少劳动力派生需求所导致的失业。这种失业是与经济周期相联系的, 这种失业是宏观经济调控中需要关注的重点。

39. 关于奥肯定律的含义和作用的说法, 正确的有 ( )。[2013 年真题]

- A. 奥肯定律揭示了经济增长和失业之间的关系
- B. 奥肯定律揭示了通货膨胀和失业之间的关系
- C. 奥肯定律的政策含义是政府应当把促进经济增长作为增加就业或降低失业的主要途径
- D. 奥肯定律揭示了经济增长和财政收入之间的关系
- E. 奥肯定律揭示了经济增长和国际资本流动之间的关系

【答案】AC

【解析】奥肯定律所提出的经济增长和失业之间的具体数量相关关系可能会随着时代的变化而有所不同, 在不同的国家或地区可能差别更大。但是, 这一定律具有重要的政策含义, 表明了在经济增长和就业之间存在一定的正相关关系。其政策含义就是, 政府应当把促进经济增长作为增加就业或降低失业的主要途径。

40. 下列由政府实行的进出口贸易干预措施中, 不属于非关税壁垒的有 ( )。[2018、2014、2009 年真题]

- A. 出口信贷
- B. 反倾销税
- C. 歧视性政府采购

- D. 出口补贴
- E. 卫生检疫标准

**【答案】** ABD

**【解析】**非关税壁垒是指采用关税以外的手段对外国商品进口设置障碍的各种措施。例如：进口配额制、自愿出口限制、歧视性公共采购、技术标准和卫生检疫标准等。AD 两项属于政府干预出口贸易刺激出口增加的主要措施；B 项是在正常海关税费之外，进口国主管机关对确认倾销产品征收的一种附加税；CE 两项属于非关税壁垒。

41. 关于倾销和反倾销的说法，正确的有（ ）。[2017 年真题]
- A. 反倾销属于贸易救济措施
  - B. 进口国征收反倾销税可以根据本国需要随意确定标准
  - C. 倾销的实质就是低价出口产品
  - D. 反倾销的措施可采用征收反倾销税
  - E. 确定是否属于倾销行为的关键是认定产品的正常价值

**【答案】** ADE

**【解析】**B 项，反倾销税的税额不得超过所裁定的倾销幅度。C 项，倾销是指出口商以低于正常价值的价格向进口国销售产品，并因此给进口国产业造成损害的行为。

42. 互补品是指使用价值上必须相互补充才能满足人们某种需要的商品，下列属于互补品的有（ ）。
- A. 汽车与汽油
  - B. 家用电器与电
  - C. 石油与煤炭
  - D. 煤气与电力
  - E. 羽毛球与羽毛球拍

**【答案】** ABE

**【解析】**CD 两项属于替代品。

43. 在供给曲线不变的情况下，需求的变动将引起（ ）。
- A. 均衡价格同方向变动
  - B. 均衡价格反方向变动
  - C. 均衡数量同方向变动
  - D. 均衡数量反方向变动
  - E. 供给同方向变动

**【答案】** AC

**【解析】**在供给不变的情况下，需求增加会使需求曲线向右平移，从而使得均衡价格和均衡数量都增加；需求减少会使需求曲线向左平移，从而使得均衡价格和均衡数量都减少。所以，需求的变动将引起均衡价格同方向的变动和均衡数量同方向的变动。

44. 下列关于弹性的表达中，正确的有（ ）。
- A. 需求价格弹性是需求量变动对价格变动的敏感程度
  - B. 需求价格弹性等于需求的变动量除以价格的变动量
  - C. 收入弹性描述的是收入与价格的关系
  - D. 收入弹性描述的是收入与需求量的关系
  - E. 交叉弹性就是一种商品的价格变化对另一种商品需求量的影响

**【答案】** ADE

**【解析】**AB 两项，需求价格弹性，指某种商品需求量变动百分比与价格变化的百分比之比，它用来测度商品需求量变动对于商品自身价格变动反应的敏感性程度，它等于需求量变动的百分比除以价格变动的百分比；CD 两项，需求收入弹性指需求量的变动和引起这一变动的消费者收入变动之比，它被用来测度某种商品需求的相对变动对于消费者收入的相对变动反应的敏感性程度。

45. 序数效用论对消费者偏好的假定有 ( )。

- A. 完备性
- B. 可传递性
- C. 偏好于多而不是少
- D. 平均性
- E. 无差异性

【答案】ABC

【解析】偏好的基本假定包括：①完备性，其保证消费者总可以把自己的偏好准确地表达出来；②可传递性，其可以保证消费者偏好的一致性；③消费者总是偏好于多而不是少，即如果两组商品的区别只是在于其中一种商品数量的不同，那么消费者总是偏好较多的那个组合，即多多益善。

46. 下列对消费者均衡点的理解，正确的有 ( )。

- A. 均衡点位于预算线上
- B. 消费者均衡点在理论上可以脱离预算线而存在
- C. 一般情况下，均衡点由预算线和无差异曲线的切点决定
- D. 在消费者均衡点上，预算线与无差异曲线斜率相等但符号相反
- E. 均衡点可以是无差异曲线上的任意一点

【答案】AC

【解析】消费者均衡的实现条件就是消费者在一定的货币收入约束下，实现自己效用最大化的条件。这一均衡条件用公式表示为  $MRS_{12} = P_1/P_2$ ，在图形上，代表消费者均衡的点必然是使预算线与最远离原点的无差异曲线（也就是代表消费者所能获得最大效用的无差异曲线）相切的那一点，此时预算线和无差异曲线的斜率相同。

47. 在生产者行为的分析中，一般假设生产者或企业的目标是追求利润最大化，而实际上，经济学家并不认为追求利润最大化是人们从事生产和交易活动的唯一动机，其原因包括 ( )。

- A. 在现代公司制企业中，企业所有者往往并不是企业真正的经营者，企业的日常决策是由企业的经营者做出的
- B. 经营者可能会追求其他一些有利于自身利益的目标
- C. 企业所有者与经营者所追求的目标总是一致的
- D. 信息的不完全性，特别是信息的不对称性的存在
- E. 所有者并不能完全监督和控制经营者的行为

【答案】ABDE

【解析】经济学家实际上并不认为追求利润最大化是人们从事生产和交易活动的唯一动机。特别是在现代公司制企业中，企业所有者往往并不是企业真正的经营者，企业的日常决策是由企业的经营者做出的。经营者还有其他的目标，如企业的生存、舒适的生活以及优厚的薪水等。由于信息的不完全性，特别是信息的不对称性，所有者并不能完全监督和控制经营者的行为。经营者也可能只顾及企业的短期利益，而牺牲企业的长期利益。

48. 实现利润最大化是所有企业在竞争中求得生存的关键，原因包括 ( )。

- A. 从长期来看，生产者的活动看起来很接近于追求最大利润
- B. 经营者对利润最大化目标的偏离在很大程度上受到制约
- C. 长期不以利润最大化为目标的企业最终将为市场所淘汰
- D. 经营不善可能会使经营者的职位产生动摇
- E. 最大利润很容易被准确计算出来

【答案】ABCD

【解析】从长期来看，生产者的活动看起来很接近于追求最大利润。经营者对利润最大化目标的偏离在很大程度上受到制约。如果经营不善，企业效益下降，公司的股票价格就会下降，经营者的职位就可能产生动摇。不管信息不完全的情况下找到利润最大化目标的决策有多么困难，也不管经营者偏离利润最大化目标的动机有多强烈，长期不以利润最大化为目标的企业最终将为市场所淘汰。

49. 生产投入一般可分为 ( )。

- A. 资本投入

- B. 实物投入
- C. 才能投入
- D. 可变投入
- E. 不变投入

【答案】DE

【解析】投入一般可以分为可变投入与不变投入。从较长时期来看，企业的各项投入都是可以改变的。但在短期内，部分生产要素，例如厂房设备等资本投入可能是不能改变的，一般称为不变投入。

50. 下列关于成本和利润的表述正确的有（ ）。
- A. 企业所有的显成本和隐成本共同构成了企业的总成本
  - B. 企业的利润是指企业总收益和总成本的差额
  - C. 企业所追求的最大利润，指的是最大的经济利润
  - D. 企业所追求的最大利润，指的是最大的正常利润
  - E. 经济利润中包括正常利润

【答案】ABC

【解析】D项，企业所追求的最大利润，指的是最大的经济利润。E项，正常利润通常是指企业对自己所提供的企业家才能的报酬支付。正常利润是生产成本的一部分，作为隐成本的一部分计入成本，因此经济利润中不包括正常利润。

51. 市场类型划分的主要依据有（ ）。
- A. 本行业内部的生产者数目或企业数目
  - B. 本行业内各企业生产者的产品的差别程度
  - C. 进入障碍的大小
  - D. 生产要素的效率
  - E. 市场规模的大小

【答案】ABC

【解析】市场类型划分的标准是市场上竞争程度或垄断程度。市场类型划分的主要依据有：①本行业内部的生产者数目或企业数目；②本行业内各企业生产者的产品的差别程度；③进入障碍的大小。

52. 下列属于垄断竞争市场结构的行业有（ ）。
- A. 玉米
  - B. 小麦
  - C. 啤酒
  - D. 糖果
  - E. 电力

【答案】CD

【解析】垄断竞争市场的特征为：①市场上具有很多的生产者和消费者；②产品具有差别性；③进入或退出市场比较容易，不存在什么进入障碍。垄断竞争是比较符合现实生活的市场结构，许多产品都可列入这种市场，如啤酒、糖果等产品。AB两项属于完全竞争市场结构的行业；E项属于完全垄断市场结构的行业。

53. 追求利润最大化的卡特尔会使得（ ）。
- A. 每个厂商的边际成本等于行业的边际收益
  - B. 为每个厂商制定一个价格
  - C. 为每个厂商确定一个产量配额
  - D. 市场价格等于领导厂商的价格
  - E. 对退出卡特尔的厂商进行惩罚

【答案】ACE

【解析】卡特尔制定统一价格的原则是使整个卡特尔的利润最大化，从而必须使每个厂商的边际成本等于行业的边际收益，即  $MR=MC$ 。卡特尔根据  $MR=MC$  的利润最大化原则确定总产量和相应的垄断价格。在此基础上，卡特尔将按照等边际成本原则来分配其总产量，为每个厂商确定一个产量配额。鉴于卡特尔组织的脆弱性，

为避免卡特尔合作协议被破坏，必须对退出卡特尔的厂商进行惩罚或承诺采取相应的惩罚措施，如施加“以牙还牙”策略。

54. 下列属于影响生产要素价格的因素的有（ ）。

- A. 消费者的需求曲线
- B. 消费者的供给曲线
- C. 生产者生产要素市场上所处的市场状态
- D. 生产者在信息市场上所处的市场状态
- E. 生产者在产品市场上所处的市场状态

【答案】ACE

【解析】生产者对生产要素的需求量很大程度上取决于消费者对产品的需求量。因此，不但消费者的需求曲线会影响生产要素的价格，生产者在产品市场和生产要素市场上所处的市场状态也会影响生产要素的需求，并最终影响生产要素的价格。

55. 当一个消费者同时消费其他商品和闲暇时，效用函数为  $U(C, L)$ ，下面关于效用函数正确的有（ ）。

- A. 其他商品  $C$  和闲暇  $L$  的边际效用都大于 0
- B. 当消费者消费更多的闲暇，同时减少其他消费品时，闲暇和其他消费的边际替代率降低
- C. 当消费者增加其他消费品  $C$  的消费时， $C$  的边际效用递减
- D. 当消费者增加闲暇的消费时，闲暇的边际效用增加
- E. 当消费者增加闲暇的消费时，闲暇的边际效用递减

【答案】ABCE

【解析】闲暇是一种普通商品，依然遵循边际效用递减规律。

56. 生产要素的所有者所得到的收入有（ ）。

- A. 劳动的工资
- B. 政府的税收
- C. 资本的利息
- D. 土地的地租
- E. 货币的利息

【答案】ACD

【解析】生产要素包括劳动、资本、土地等，其所有者可以由其拥有的生产要素来获得收入，劳动可以获得工资，资本产生利息收入，而由土地得到的收入则是指地租。

57. 下列关于生产者对生产要素的需求的说法，正确的有（ ）。

- A. 生产者对生产要素的需求是单一需求
- B. 生产要素之间存在互补性
- C. 对一种生产要素的需求数量仅取决于该要素的价格
- D. 生产要素之间存在一定程度的替代性
- E. 不同企业的生产要素之间能否替代，如何替代，替代程度的大小需要具体分析

【答案】BDE

【解析】AC 两项，不同于消费者对消费品的需求，生产者对生产要素的需求是联合需求，或称为复合需求，即对生产要素的需求具有相互依赖性，各种生产要素要共同发挥作用才能生产最终产品。联合需求的一个重要后果是，对每一种生产要素的需求数量将取决于所有生产要素的价格，同时受到其他生产要素需求数量的影响，反过来这种生产要素的需求量和价格也会影响其他生产要素的需求。

58. 下列关于劳动供给曲线的表述，正确的有（ ）。

- A. 劳动的供给曲线是后弯曲线
- B. 劳动供给曲线表明，当工资较低时，提高工资，则劳动供给增加；当工资提高到一定程度时，劳动供给减少
- C. 一般地，当工资低而收入少时，工资上升，其替代效应小于收入效应，消费者的劳动供给会增加

- D. 当工资提高到一定程度时, 消费者相对比较富有, 工资增加的替代效应大于收入效应, 劳动供给减少
- E. 土地和资本的供给在短期内是垂直线, 而在长期中是一条后弯曲线

**【答案】** AB

**【解析】** C项, 一般地, 当工资低而收入少时, 工资上升, 其替代效应大于收入效应, 消费者的劳动供给会增加; D项, 当工资提高到一定程度时, 消费者相对比较富有, 工资增加的替代效应小于收入效应, 劳动供给减少; E项, 由于土地的数量一般不会变化, 所以土地的供给曲线是一条垂直线, 资本的供给在短期内也是垂直线, 在长期中是一条后弯曲线。

59. 下列关于私人物品的表述中, 正确的有 ( )。

- A. 增加一个人对该物品的消费必然减少另一个人对该物品的消费
- B. 增加一个人对该物品的消费并不影响其他人对该物品的消费
- C. 该物品在财产所有权上具有独占性
- D. 一个人不进行购买就不能消费该物品
- E. 一个人不进行购买也可以消费该物品

**【答案】** ACD

**【解析】** 私人物品具有两个明显的特征: ①竞争性, 是指在其他条件不变的情况下, 对于既定的可供消费的产品而言, 增加一个人的消费就必然减少另一个人的消费; ②排他性, 是指私人物品在财产所有权上的独占性, 某人合法地占有了某种商品, 别人就不能同时占有它。私人物品可明确产权上的归属, 而产权必然具有排他性。BE两项描述的是公共物品的特征。

60. 市场失灵的情况通常有 ( )。

- A. 外部性或外部影响的存在
- B. 世界市场上国外的大量采购
- C. 公共物品的生产
- D. 垄断的存在
- E. 信息不对称

**【答案】** ACDE

**【解析】** 市场失灵是指由于市场机制不能充分地发挥作用而导致的资源配置缺乏效率或资源配置不当的情况。导致市场失灵的原因主要有垄断、外部性、公共物品和信息不对称等。

61. 政府对市场进行干预的目的主要有 ( )。

- A. 克服市场失灵
- B. 弥补市场机制的缺陷和不足
- C. 优化资源配置
- D. 控制生产产品的总量
- E. 控制市场价格

**【答案】** ABC

**【解析】** 为了克服市场失灵, 弥补市场机制的缺陷或不足, 优化资源配置, 政府需要对市场进行干预和调控, 用“看得见的手”来弥补“看不见的手”。

62. 在我国统计实践中, 用支出法核算国内生产总值时应包括的项目有 ( )。

- A. 消费支出
- B. 固定资产投资
- C. 净出口
- D. 折旧
- E. 政府购买

**【答案】** ABCE

**【解析】** D项, 折旧是用收入法核算国内生产总值时应包括的项目。

63. 出口总额的计算包括 ( )。

- A. 本国生产并卖给外国（境外）消费者的物品的价值总和
- B. 本国购买外国（境外）生产的物品的价值
- C. 本国向外国提供的服务的价值总和
- D. 本国支付给外国（境外）提供的劳务的报酬
- E. 本国在国外投资和贷款获得的股息和利息收入

【答案】ACE

【解析】出口总额是指在一定时期内，本国生产并卖给外国（境外）消费者的物品的价值总和，加上本国向外国提供的服务的价值总和，再加上本国在国外投资和贷款获得的股息和利息收入；进口总额是指一定时期内本国购买外国（境外）生产的物品的价值，加上本国支付给外国（境外）提供的劳务报酬和外国在本国投资的股息和利息收入。

64. 莫迪利安尼的生命周期消费理论认为（ ）。
- A. 为实现一生消费效用的最大化，人们会在更长的时间范围内计划其生活消费开支
  - B. 各个家庭的消费取决于他们当前所能获得的收入和财产
  - C. 理性的消费者会安排自己一生的消费，使其等于一生的收入
  - D. 在年青时期，家庭储蓄很小甚至是零储蓄和负储蓄
  - E. 在老年时期，消费主要依靠退休收入

【答案】ACD

【解析】B项，各个家庭的消费要取决于他们在整个生命周期内所获得的收入和财产，理性的消费者总希望自己的一生能够比较安定地生活，使一生的收入与消费相等；E项，当进入老年时期后，由于基本没有劳动收入，此时的消费主要是过去积累的财产而非收入。

65. 关于乘数，下列说法中正确的有（ ）。
- A. 决定收入的各种因素变化都会对国民收入产生乘数作用
  - B. 投资乘数=边际消费倾向
  - C. 投资乘数=1/边际消费倾向
  - D. 投资乘数=边际储蓄倾向
  - E. 投资乘数=1/边际储蓄倾向

【答案】AE

【解析】乘数，又称倍数，即一个因素或变量的变化对整个社会经济活动的影响程度。决定收入的各种因素变化都会对国民收入产生乘数作用，例如：投资乘数、政府购买支出乘数、税收乘数、政府转移支付乘数、平衡预算乘数、对外贸易乘数等。投资乘数=1/边际储蓄倾向。

66. 下列表述正确的有（ ）。
- A. 总需求曲线是反映总需求与利率之间关系的曲线
  - B. 总需求曲线上的点不表明产品市场与货币市场同时达到均衡
  - C. 总需求曲线是表明总需求与价格水平之间关系的曲线
  - D. 在以价格和总需求为坐标的坐标系内，总需求曲线是向右下方倾斜的
  - E. 在以利率和总需求为坐标的坐标系内，总需求曲线是向右上方倾斜的

【答案】CD

【解析】总需求曲线是表明价格水平和总需求量之间关系的一条曲线。该曲线上任意一点表示某一确定的价格水平及其对应的产品市场和货币市场同时均衡时的产量水平。在以价格和总需求为坐标的坐标系内，总需求曲线是向右下方倾斜的。

67. 要保持一国长期的经济增长，政府可以选择的经济政策包括（ ）。
- A. 刺激消费和投资的政策
  - B. 刺激资本积累的政策
  - C. 增加劳动供给的政策
  - D. 增加政府支出和刺激出口的政策
  - E. 促进技术进步的政策



**【答案】** BCE

**【解析】** 要保持一国长期的经济增长，政府可以选择的经济政策：①增加劳动供给的政策；②刺激资本积累的政策；③促进技术进步的政策。AD 两项只能在短期内拉动一国经济增长。

68. 三因素分解法把经济增长按（ ）因素分解。

- A. 劳动增长率
- B. 劳动投入
- C. 资本投入
- D. 资本增长率
- E. 全要素生产率

**【答案】** BCE

**【解析】** 三要素分解法是指运用生产函数，把经济增长按照劳动投入、资本投入和全要素生产率三个因素进行分解，计算这三个因素对经济增长的贡献份额，计算公式为：经济增长率 = 技术进步率 + (劳动份额 × 劳动增长率) + (资本份额 × 资本增长率)。

69. 经济复苏和繁荣阶段的一般特征包括（ ）。

- A. 投资持续增长
- B. 市场需求旺盛
- C. 常常伴随着通货膨胀
- D. 失业率提高
- E. 居民收入提高

**【答案】** ABCE

**【解析】** 在经济复苏和繁荣阶段，经济上可能出现的一般特征是，伴随着经济增长速度的持续提高，投资持续增长，产量不断扩大，市场需求旺盛，就业机会增多，企业利润、居民收入和消费水平都有不同程度的提高，但也常常伴随着通货膨胀。D 项是经济衰退的特征。

70. 决定经济增长的基本因素有（ ）。

- A. 法律法规的支持
- B. 劳动的投入数量
- C. 资本的投入数量
- D. 劳动生产率
- E. 资本的效率

**【答案】** BCDE

**【解析】** 一般来说，决定经济增长的因素包括：科学技术进步、自然资源状况、社会制度、经济体制与经济政策，以及人口的增长情况等。具体来看，决定经济增长的基本因素主要有劳动的投入数量、资本的投入数量、劳动生产率及资本的效率。

71. 一般用（ ）表示资本的效率。

- A. 国内生产总值与资本余额的比率
- B. 国内生产总值与资本总额的比率
- C. 生产单位国内生产总值需要投入的资本数量
- D. 国民生产总值与资本总额的比率
- E. 生产单位国民生产总值需要投入的资本数量

**【答案】** BC

**【解析】** 资本的效率即投资效益，是指单位资本投入数量所能产生的国内生产总值。一般用国内生产总值与资本总额的比率来表示；也可以用生产单位国内生产总值需要投入的资本数量来表示。资本的效率提高就会带来经济增长；资本的效率下降就会导致经济增长速度下降。

72. 可持续发展战略其目的是使经济发展同（ ）相适应。

- A. 人口增长

- B. 技术进步
- C. 资源利用
- D. 制度创新
- E. 环境保护

【答案】ABCE

【解析】可持续发展战略是以控制人口、节约资源、保护环境为重要条件的。其目的是使经济发展同人口增长、资源利用和环境保护相适应，实现资源、环境的承载能力与经济、社会发展相协调，从人口、资源、环境、经济、社会相互协调中推动经济发展，并在经济发展的进程中解决人口、资源和环境所面临的问题。

73. 下列关于我国经济新常态的理解，正确的有（ ）。

- A. 从消费需求看，过去我国消费具有明显的模仿型排浪式特征，现在模仿型排浪式消费阶段基本结束，个性化、多样化消费渐成主流
- B. 从市场竞争特点看，过去主要是数量扩张和价格竞争，现在正逐步转向质量型、差异化为主的竞争
- C. 从出口和国际收支看，国际金融危机发生前国际市场空间扩张很快，进口成为拉动我国经济快速发展的重要动能
- D. 从资源环境约束看，过去能源资源和生态环境空间相对较大，现在环境承载能力已经达到或接近上限
- E. 从经济风险积累和化解看，伴随着经济增速下调，各类显性风险逐步隐性化，风险总体可控

【答案】ABD

【解析】C项，从出口和国际收支看，国际金融危机发生前国际市场空间扩张很快，出口成为拉动我国经济快速发展的重要动能；E项，从经济风险积累和化解看，伴随着经济增速下调，各类隐性风险逐步显性化，风险总体可控。

74. “十三五”时期经济社会发展的主要目标包括（ ）。

- A. 经济保持中低速增长
- B. 人民生活水平和质量普遍提高
- C. 生态环境质量总体改善
- D. 国民素质和社会文明程度显著提高
- E. 各方面制度更加成熟更加定型

【答案】BCDE

【解析】“十三五”时期经济社会发展的主要目标包括：①经济保持中高速增长；②人民生活水平和质量普遍提高；③国民素质和社会文明程度显著提高；④生态环境质量总体改善；⑤各方面制度更加成熟更加定型。

75. 协调是持续健康发展的内在要求，协调发展的重点是（ ）。

- A. 促进城乡区域协调发展
- B. 促进经济社会协调发展
- C. 促进新型工业化、信息化、城镇化、农业现代化同步发展
- D. 不断加快经济的发展速度
- E. 在增强国家硬实力的同时注重提升国家软实力

【答案】ABCE

【解析】党的十八届五中全会提出了“十三五”时期经济社会发展的基本理念，是创新、协调、绿色、开放、共享。协调是持续健康发展的内在要求。重点是促进城乡区域协调发展，促进经济社会协调发展，促进新型工业化、信息化、城镇化、农业现代化同步发展，在增强国家硬实力的同时注重提升国家软实力，不断增强发展整体性。

76. 下列关于“十三五”时期经济社会发展的基本理念的说法，正确的有（ ）。

- A. 创新是引领发展的第一动力
- B. 协调是持续健康发展的必由之路
- C. 绿色是永续发展的必要条件
- D. 开放是国家繁荣发展的内在要求
- E. 共享是中国特色社会主义的本质要求

**【答案】** ACE

**【解析】**党的十八届五中全会提出了“十三五”时期经济社会发展的基本理念，是创新、协调、绿色、开放、共享。B项，协调是持续健康发展的内在要求；D项，开放是国家繁荣发展的必由之路。

77. 可持续发展战略其目的是使经济发展同（ ）相适应。

- A. 人口增长
- B. 技术进步
- C. 资源利用
- D. 制度创新
- E. 环境保护

**【答案】** ACE

**【解析】**可持续发展战略是以控制人口、节约资源、保护环境为重要条件的。其目的是使经济发展同人口增长、资源利用和环境保护相适应，实现资源、环境的承载能力与经济、社会发展相协调，从人口、资源、环境、经济、社会相互协调中推动经济发展，并在经济发展的进程中解决人口、资源和环境所面临的问题。

78. 决定价格总水平变动的主要因素有（ ）。

- A. 货币供给量
- B. 货币流通速度
- C. 总需求和总供给
- D. 产业结构
- E. 总产出

**【答案】** ABCE

**【解析】**决定价格总水平变动的因素有：①货币供给量、货币流通速度和总产出；②总需求和总供给。产业结构与经济增长与就业有密切的联系，但与价格总水平关系不大。

79. 目前，世界各国或地区，度量价格总水平的方法主要有（ ）。

- A. 编制各种价格指数
- B. 计算国内生产总值缩减指数
- C. 计算国民生产总值缩减指数
- D. 编制各种消费指数
- E. 编制各种成本指数

**【答案】** AB

**【解析】**目前，世界各国或地区，度量价格总水平的方法主要有两种：①编制各种价格指数，如消费者价格指数、批发价格指数等；②计算国内生产总值缩减指数。

80. 就业可以从（ ）方面进行界定。

- A. 自然条件
- B. 就业者条件
- C. 市场条件
- D. 时间条件
- E. 收入条件

精准押题加QQ: 1419505160

**【答案】** BDE

**【解析】**就业可以从三个方面进行界定：①就业者条件，指一定的年龄；②收入条件，指获得一定的劳动报酬或经营收入；③时间条件，即每周工作时间的长度。

81. 按照国际劳工组织的统计标准，凡是在规定年龄内在一定期间内（如一周或一天）属于以下（ ）情况的均属于失业人口。

- A. 没有工作
- B. 当前可以工作
- C. 正在寻找工作

- D. 每天工作半天
- E. 在自己家中从事家务劳动

**【答案】** ABC

**【解析】**按照国际劳工组织的统计标准，凡是在规定年龄内在一定时期内（如一周或一天）属于下列情况的均属于失业人口：①没有工作，即在调查期间内没有从事有报酬的劳动或自我雇佣；②当前可以工作，就是当前如果有就业机会，就可以工作；③正在寻找工作，就是在最近的期间采取了具体的寻找工作的步骤，例如到公共的或私营的就业服务机构登记、到企业求职或刊登求职广告等方式寻找工作。

82. 关于二元经济结构理论与实践的正确说法包括（ ）。
- A. 由于二元结构和体制转轨，我国的就业和失业率矛盾比较严重
  - B. 我国具有典型的二元经济结构特征
  - C. 二元经济结构是指现代工业部门和传统农业部门并存的结构
  - D. 二元经济结构是指国有制经济和私营经济并存的结构
  - E. 二元经济结构是指发达地区与不发达地区并存的结构

**【答案】** ABC

**【解析】**DE 两项，二元经济结构是指现代工业部门和传统农业部门并存的结构。

83. 关于我国的就业问题，下列说法正确的有（ ）。
- A. 由于我国经济是一个典型的二元经济结构，因此失业问题具有不同于发达国家的特殊性
  - B. 我国不仅要面临农村富余劳动力转移而加剧的城镇失业问题，还存在体制改革带来的失业问题
  - C. 如果考虑城市失业风险或制度性限制，农民留在传统部门不进行流动，那么在农村实际存在大量隐性失业或就业不足现象
  - D. 失业类型主要是摩擦性失业
  - E. 失业类型主要是周期性失业

**【答案】** ABC

**【解析】**D 项，摩擦性失业是因为劳动者找到最适合自己的偏好和技能的工作需要一定的时间而引起的失业；E 项，周期性失业是指劳动者在现行工资水平下找不到工作的状况，是与经济周期相联系的。DE 两项与我国的失业类型都不相符。

84. 政府对进出口贸易进行干预的手段包括（ ）。
- A. 财务核算
  - B. 关税壁垒
  - C. 非关税壁垒
  - D. 出口退税
  - E. 出口信贷

**【答案】** BCDE

**【解析】**政府对进口贸易的干预主要采取关税限制和非关税限制两种方式，即关税壁垒和非关税壁垒；政府干预出口贸易以刺激出口增加的主要措施是出口补贴，包括直接补贴和间接补贴（出口退税、出口信贷等）。

85. 一国的进口贸易额受许多因素的影响，如果其他条件不变，这些因素与进口贸易额的一般关系是（ ）。
- A. 国内的总产出水平与进口贸易额正相关
  - B. 国内的总产出水平与进口贸易额负相关
  - C. 如果本币升值，会导致进口贸易额的增长
  - D. 如果本币升值，会导致进口贸易额的减少
  - E. 如果国内经济处于景气上升期，进口贸易额会相应增加

**【答案】** ACE

**【解析】**影响一国进口贸易的因素主要有：①一国的经济总量或总产出水平。在一般情况下，一国的经济总产出水平越高，经济总量越大，其进口贸易额就越大。②汇率水平。一国货币汇率上升即货币升值，以本币标示的进口商品价格就会下跌，本国居民对进口商品的需求就会增加，进口贸易额也会增加。③国际市场商品的供给情况和价格水平。在国际市场上，如果商品紧缺，从而导致价格大幅度上升，就会使一国的进口贸易受到影响。

86. 影响一国出口贸易的因素主要有 ( )。

- A. 自然资源的丰裕程度
- B. 生产能力和技术水平
- C. 汇率水平
- D. 国际市场需求水平和需求结构
- E. 经济总量和产出水平

**【答案】** ABCD

**【解析】**影响一国出口贸易的因素主要有：①自然资源的丰裕程度；②生产能力和技术水平的高低；③汇率水平的高低；④国际市场需求水平和需求结构。E项是影响一国进口贸易的主要因素之一。

87. 按照世界贸易组织的规定，对出口国某一产品征收反倾销税必须符合以下 ( ) 要求。

- A. 进口国不采取反倾销措施
- B. 倾销对某一成员国的相关产业造成重大损失
- C. 出口商品的质量要优于进口市场上同类商品的质量
- D. 损害与低价倾销之间存在因果关系
- E. 该产品存在着以低于正常价值水平进入另一国市场的事实

**【答案】** BDE

**【解析】**世界贸易组织规定，对出口国某一产品征收反倾销税必须符合以下要求：①该产品存在着以低于正常价值水平进入另一国市场的事实；②倾销对某一成员国的相关产业造成重大损失；③损害与低价倾销之间存在因果关系。

88. 政府干预对外贸易的目的有 ( )。

- A. 保护国内产业
- B. 维持本国经济增长
- C. 实现国内充分就业
- D. 实现国际收支平衡
- E. 提高经济效率，促进资源优化配置

**【答案】** ABD

**【解析】**政府对进出口贸易进行干预或限制的目的，主要是为了保护国内产业免受国外竞争者的损害，维持本国的经济增长和国际收支平衡。

89. 一国对外贸易的发展水平主要取决于 ( )。

- A. 各国的经济制度
- B. 产品的竞争力
- C. 世界市场的供求关系
- D. 各国对进出口贸易的限制或贸易政策
- E. 本国的总体经济状况和经济实力

**【答案】** BCDE

**【解析】**一国对外贸易的发展水平，不仅取决于本国的总体经济状况和经济实力、产品的竞争力以及世界市场的供求关系，而且与各国政府对进出口贸易的限制或贸易政策有关。